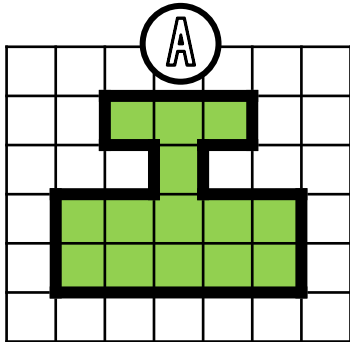


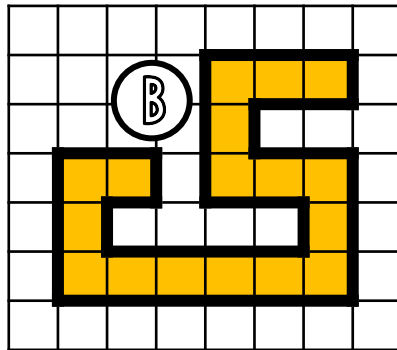


① Exprime l'aire de chaque surface avec l'unité choisie.

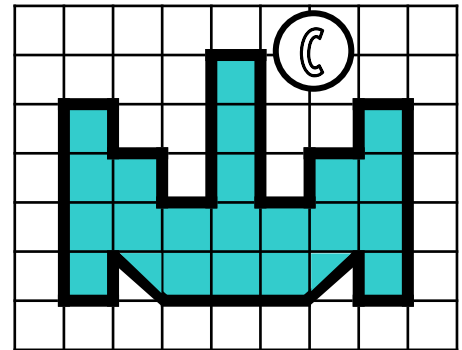
□ unité 1



A = **14** unités d'aire

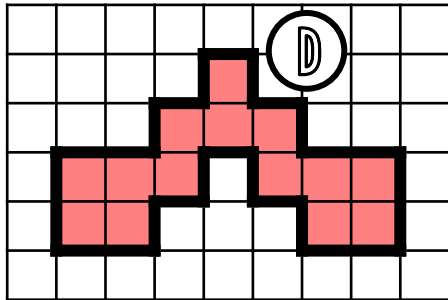


B = **17** unités d'aire



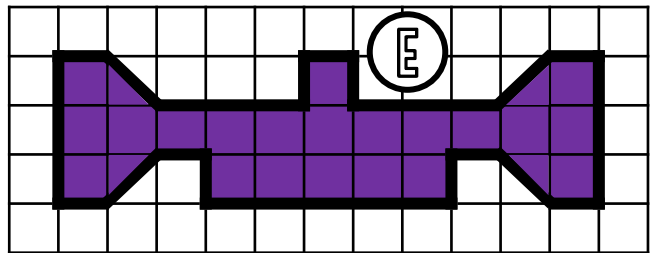
C = **22** unités d'aire

□ □
unité 2



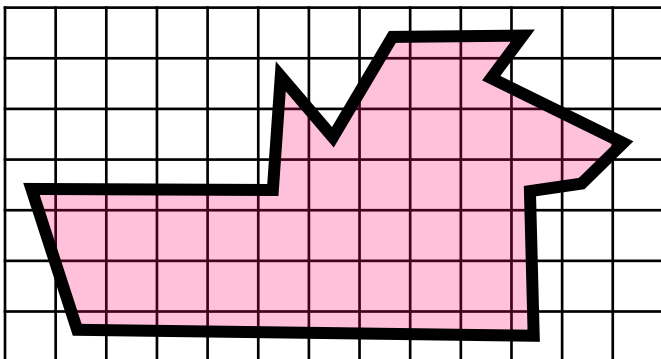
D = **7** unités d'aire

▽ unité 3



E = **46** unités d'aire

② Estime l'aire de cette surface.



L'aire de cette surface est comprise entre **24** carreaux et **58** carreaux.

③ Dessine 3 figures qui auront une aire de **15 unités A** mais pas la même forme.

□ unité A

④ Dessine 2 figures qui auront une aire de **10 unités B** mais pas la même forme.

□ □ unité B