

Évaluation n°2**Calcul**

1/ Calculer mentalement une somme ou une différence

2/ Calculer une somme en ligne

3/ Effectuer des soustractions

4/ Comparer des collections

1/ Calcul mental:

--	--	--	--	--	--

2/ Calcule et écris les résultats en chiffres:

$37 + 20 = \dots\dots\dots$

$10 + 42 = \dots\dots\dots$

$30 + 24 = \dots\dots\dots$

$18 + 12 = \dots\dots\dots$

$17 + 60 = \dots\dots\dots$

$9 + 60 = \dots\dots\dots$

3/ Calcule:

$44 - 4 = \dots\dots\dots$	$37 - 8 = \dots\dots\dots$	$51 - 3 = \dots\dots\dots$
$19 - 3 = \dots\dots\dots$	$45 - 10 = \dots\dots\dots$	$40 - 7 = \dots\dots\dots$
$26 - 3 = \dots\dots\dots$	$26 - 12 = \dots\dots\dots$	$30 - 10 = \dots\dots\dots$


4/ Entoure la différence et complète:




J'ai images











J'ai images

..... - =

Monsieur Petit a images de plus que Monsieur Costaud.