


Comparer, mesurer des périmètres

Cherchons

Merlin fait le tour de la patinoire.
 Calcule la mesure du tour de la patinoire de deux façons différentes.
 Donne ta réponse en m, puis en cm.



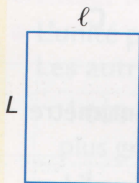
Je retiens

Calculer le périmètre d'un polygone

Le périmètre d'un polygone est la longueur du tour de ce polygone.
 Je calcule le périmètre en additionnant les longueurs des côtés.

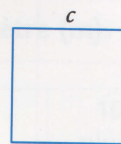
Calculer le périmètre d'un rectangle et d'un carré

Périmètre du rectangle:



- $(\text{longueur} \times 2) + (\text{largeur} \times 2)$
 $P = (L \times 2) + (\ell \times 2)$
- $(\text{longueur} + \text{largeur}) \times 2$
 $P = (L + \ell) \times 2$

Périmètre du carré:



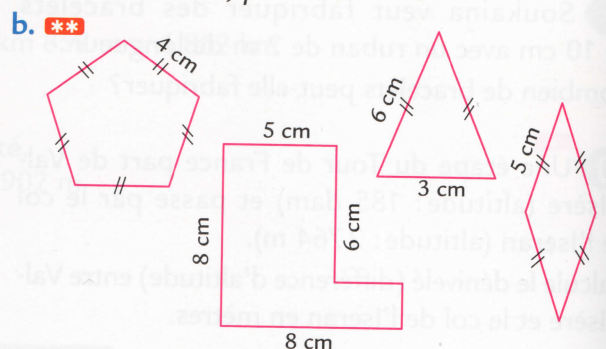
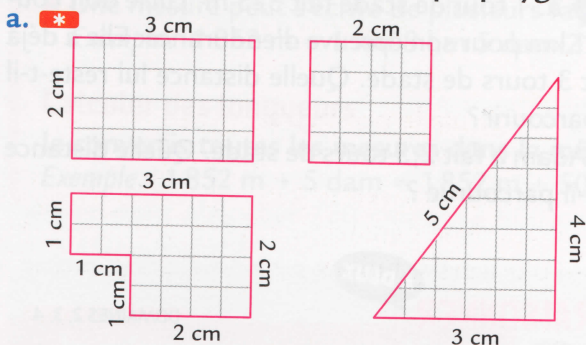
- $\text{côté} \times 4$
 $P = c \times 4$

Je m'exerce à mon rythme

EXERCICES SUPPLÉMENTAIRES

Calculer le périmètre d'un polygone

1 Calcule le périmètre de chaque polygone. Donne ton résultat en cm, puis en mm.



2 Calcule le périmètre de chaque figure.

Donne ton résultat en cm et en mm.

