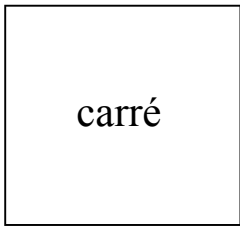


## Évaluation grandeurs et mesures

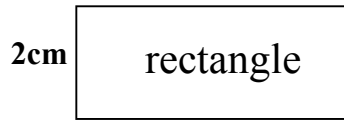
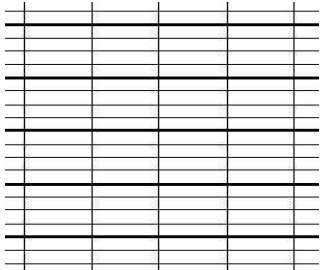
### Le périmètre du carré, du rectangle et des polygones quelconques

Calculer un périmètre  
Déduire la longueur d'un côté

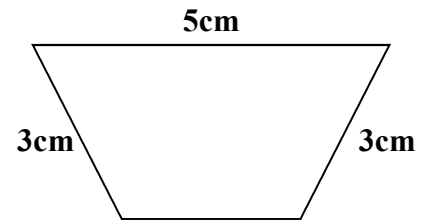
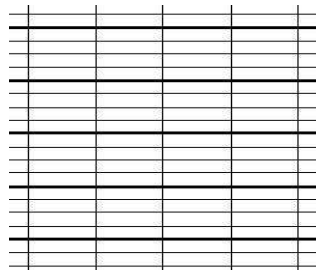
Calcule le périmètre de chaque figure :



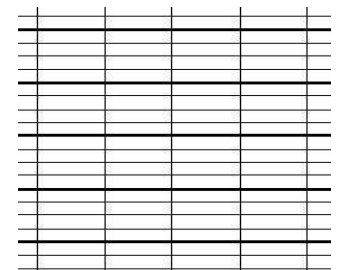
3cm



4cm

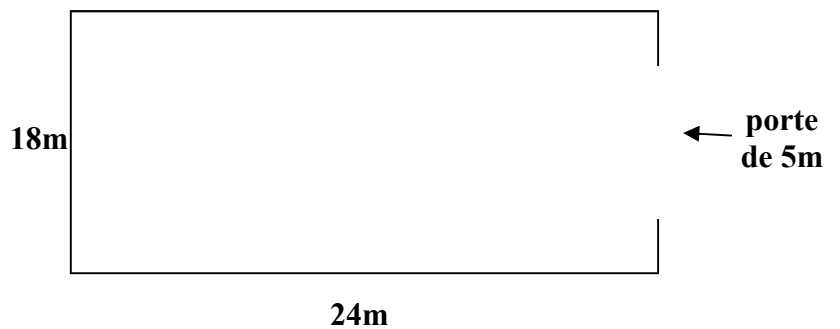
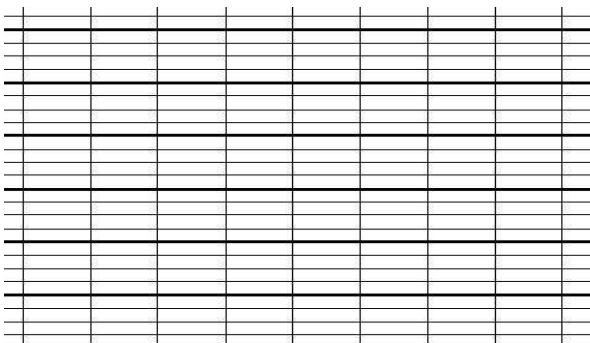


2cm



Problème :

Un agriculteur doit poser un grillage pour protéger l'enclos de ses vaches. Calcule la longueur de grillage à acheter à partir du schéma suivant :



Calcule le périmètre de la figure suivante après avoir trouvé la longueur des côtés en gras :

