









Problèmes - Traitement des données: Fête des Mères







	3€ 	14€ 	17€ 	58€ 	35€ 	22€ 
Clara	xxxx		x	x		
Samuel		x		x	x	
Jade	xxx		x		x	x
Callistine			x	x		x

1. Calcule le total des achats de chaque enfant

	Calcul	Réponse
Clara		
Samuel		
Jade		
Callistine		

2. En sachant que chaque enfant a 125 euros dans sa tirelire. Combien reste-t-il à chacun une fois les cadeaux achetés?

	Calcul	Réponse
Clara		
Samuel		
Jade		
Callistine		

	4 € Rose 	2 € Lys 	3 € Pivoine 	1,5 € Camélia 	1 € Arum 	1,5 € Bromélia 
Clara	xxx	xxx	xxx	x	x	x
Samuel	xxxx	x	xxx	xx	xx	
Jade	xxxx	xxxx	xxx		x	
Callistine	xx	xx	xx	xx	xx	xx

3. Chaque enfant veut composer un bouquet de 12 fleurs. Combien paiera chaque enfant pour le bouquet qu'il veut composer ?

	Calcul	Réponse
Clara		
Samuel		
Jade		
Callistine		

4. Pour acheter le bouquet composé, chaque enfant reçoit 10 euros de son papa et casse sa tirelire. Clara a 20 euros dans sa tirelire, Samuel en a 22, Jade en a 25 et Callistine en a 15. Calcule la somme dont dispose chaque enfant et indique s'il peut ou non acheter le bouquet qu'il a composé.

	Calcule	Réponse	Peut ou non acheter le bouquet
Clara			
Samuel			
Jade			
Callistine			

5. Pour la fête des mères, Jade veut offrir à sa maman des boucles d'oreilles qui coûtent 128 euros. Jade a 57 euros dans sa tirelire.

- a) Combien manque-t-il à Jade pour pouvoir acheter les boucles d'oreilles ?

Calcul	Réponse

Son papa lui propose de faire quelques menus travaux à la maison contre rémunération.

Faire la vaisselle	Sortir le chien	Arroser les plantes	Épousseter	Repasser
4 €	2 €	1 €	3 €	7 €

Par semaine, Jade décide de faire 3 fois la vaisselle, de sortir une fois le chien, de repasser une fois, d'épousseter 2 fois et d'arroser 2 fois les plantes.

b) Combien a-t-elle gagné en une semaine ?

Calcul	Réponse

c) Combien a-t-elle gagné au bout de 3 semaines ? Est-ce suffisant pour pouvoir acheter les boucles d'oreilles ?

Calcul	Réponse	Est-ce suffisant ?