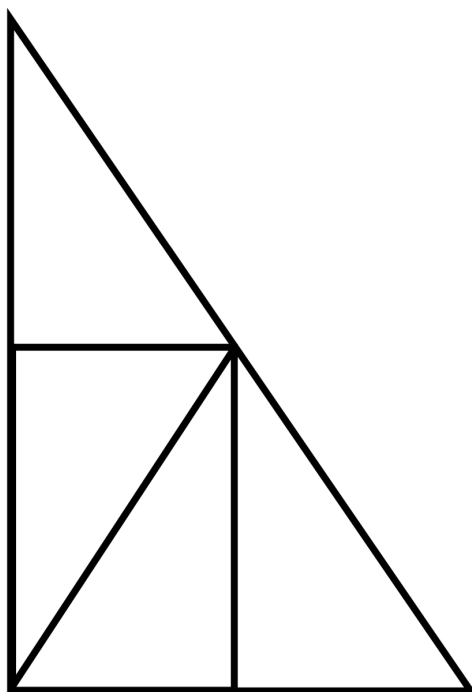


Jeudi 11 juin 2020

Mathématiques



Exercice 1 : Observe cette figure. Quand tu te sens prêt, retourne ta feuille et reproduis la figure sur ton ardoise sans la regarder.




Exercice 2 : Observe les différents billets et les différentes pièces. Il existe des pièces de centimes d'euros. Il faut 100 centimes pour faire 1 euro.



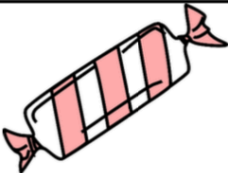
La monnaie : les billets



La monnaie : les pièces



Exercice 3 : Dessine les pièces nécessaires pour payer ces objets.

 92 centimes	 73 centimes	 67 centimes

Exercice 4 : Pose et calcule dans ton cahier du jour.

$$215 + 173$$

$$232 + 256$$

$$163 + 157$$

$$198 + 212$$

$$346 - 126$$

$$278 - 170$$

$$70 - 65$$

$$80 - 47$$



HORODATOR ★★

1

2

3

4

5

6

7

8

9

Comment faire ?

L'horloge donne l'heure grâce à deux aiguilles. La grande aiguille indique les minutes, la petite aiguille indique les heures.



Il est **4 heures** car la petite aiguille vise le « 4 » et la grande indique le « 0 » qui représente « 0 » minute.



Il est **7h30** car la petite aiguille est après le 7 et avant le 8 et la grande aiguille est sur le 6 qui représente 6 fois 5 minutes, c'est-à-dire 30 minutes (une demi-heure)



HORODATOR ★★

1



Il est.....h



Il est.....h

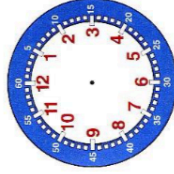


Il est.....h

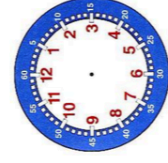


HORODATOR ★★

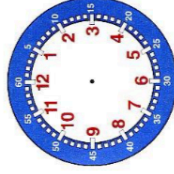
2



Il est 5 h



Il est 11 h

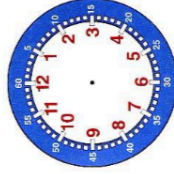


Il est 6 h

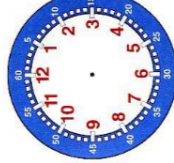


HORODATOR ★★

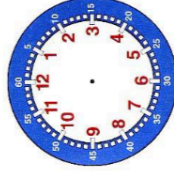
3



Il est 7 h



Il est 8 h



Il est 9 h

