





1. 
 $7 + 3 =$

2. 
 $5 + 5 =$

3. 
 $6 + 6 =$

4. 
 $8 + 2 =$


5. 
 $9 + 3 =$


6. 
 $5 + 6 =$


7. 
 $8 + 4 =$

8. 
 $6 + 4 =$

9. 
 $8 + 3 =$

10. 
 $7 + 4 =$

11. 
 $7 + 3 =$

12. 
 $9 + 1 =$

