

Prénom : .....

Groupe : .....

Fiche d'application

# Droites graduées

Objectif : Placer les nombres sur les droites numériques.



Relie chaque nombre à sa position sur la droite correspondante. Sois précis, utilise ta règle et un critérium ou un crayon correctement taillé.

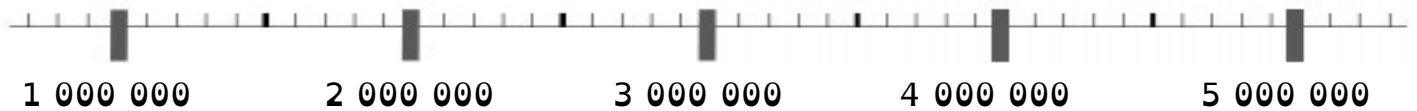


4 500 000

1 200 000

2 800 000

3 400 000

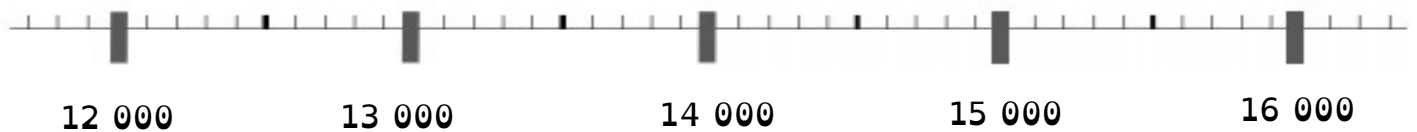


12 800

16 200

13 500

14 900



123 600

121 500

119 900

124 200



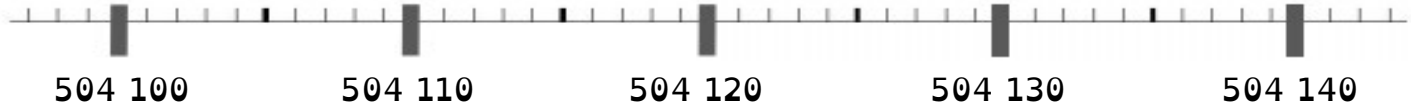


504 122

504 101

504 136

504 143

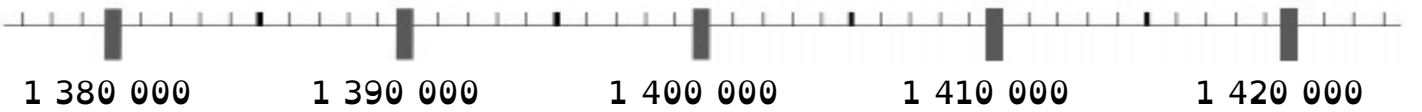


1 401 000

1 419 000

1 381 000

1 393 000



Invertis ! À présent, les nombres sont reliés à leur place, il ne te reste plus qu'à compléter la droite graduée.

8 600 000

6 500 000

9 100 000

7 200 000

