

## NUMERATION et CALCULS

Eric joue au jeu de l'oie.

Il recule de




et il arrive sur la case 40.

*Quelle est sa case de départ?*



## NUMERATION et CALCULS

*Trouve la réponse.*



44

## NUMERATION et CALCULS

Sophie joue au jeu de l'oie et elle est sur la case 10.


elle lance



*Et maintenant, elle est sur la case.....*

## NUMERATION et CALCULS

*Trouve la réponse.*

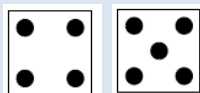


21

## NUMERATION et CALCULS

Eric joue au jeu de l'oie.

Il recule de




et il arrive sur la case 50.

*Quelle est sa case de départ?*



## NUMERATION et CALCULS

*Trouve la réponse.*




59

## NUMERATION et CALCULS

Younes joue au jeu de l'oie.

Il arrive sur la case 40.

Il a lancé :




*Et maintenant, il est sur la case.....*



## NUMERATION et CALCULS

*Trouve la réponse.*



49

## NUMERATION et CALCULS

Sophie joue au jeu de l'oie et elle est sur la case 10.


elle lance



*Et maintenant, elle est sur la case.....*

## NUMERATION et CALCULS

*Trouve la réponse.*

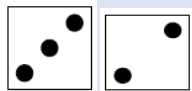


21

## NUMERATION et CALCULS

Théo joue au jeu de l'oie et il est sur la case 55.

Il lance




*Et maintenant, il est sur la case.....*



## NUMERATION et CALCULS

*Trouve la réponse.*



60