

COMPÉTENCE : Identifier et tracer le symétrique d'une figure par rapport à une droite donnée.

Calcul mental

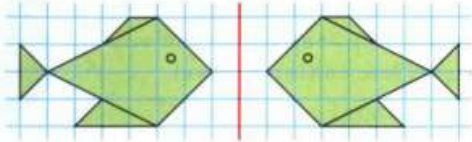
Dictée de fractions simples.

$$\frac{3}{2}$$

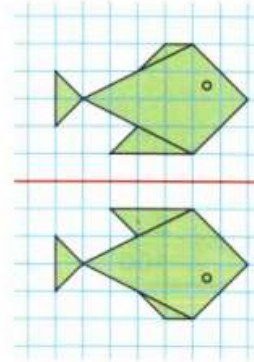
### Chercher ensemble

**A** Coche les cases des figures symétriques par rapport à la droite rouge.

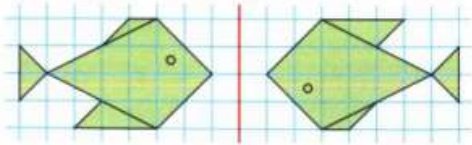
A



C



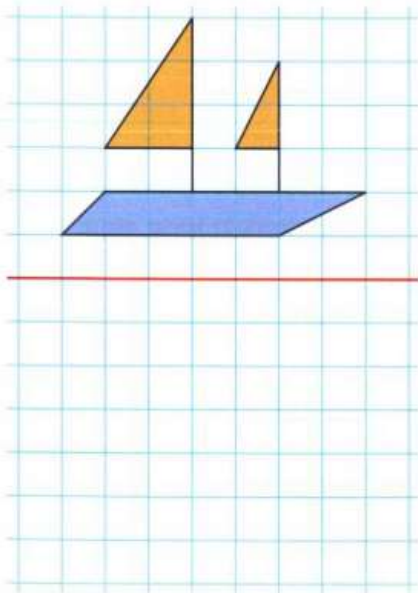
B



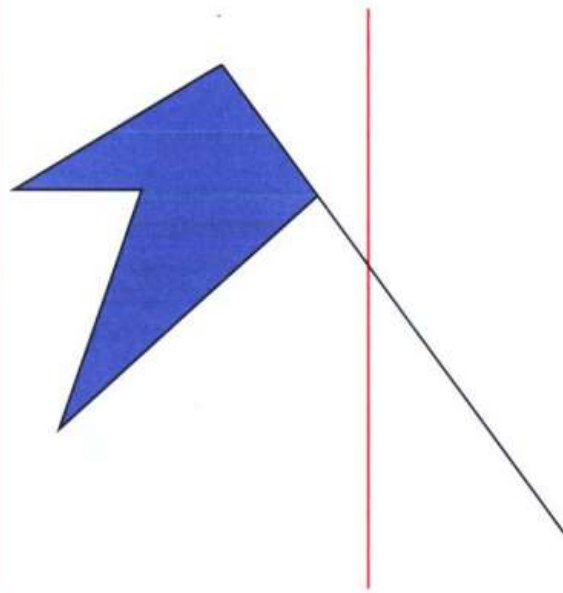
Tu peux utiliser un calque, le quadrillage...



**B** Trace le symétrique du bateau par rapport à la droite rouge, en utilisant le quadrillage.



**C** Trace le symétrique de l'étendard par rapport à la droite rouge, en utilisant un calque.



### Construis ton mémo

Pour tracer le symétrique d'une figure, je trace d'abord le symétrique des points importants.

Un point et son symétrique sont à égale ..... de l'axe de symétrie.

