

J'ai 


Qui a 2h ?

J'ai 


Qui a 7h et quart ?

J'ai 

Qui a 11h moins le quart ?

J'ai 

Qui a 15h30 ?

J'ai 

Qui a 23h ?

J'ai 

Qui a 6h et quart ?

J'ai 

Qui a 4h et
demi ?

J'ai 

Qui a 6h moins
le quart ?

J'ai 

Qui a 17h ?

J'ai 

Qui a 19h30 ?

J'ai 

Qui a 9h45 ?

J'ai 

Qui a 10h30 ?

J'ai 

Qui a 13h15 ?

J'ai 


Qui a 9h et
demi ?

J'ai 

Qui a 4h moins
le quart ?

J'ai 

Qui a 11h et
quart ?

J'ai 

Qui a 18h ?

J'ai 

Qui a 4h15 ?

J'ai 

Qui a 17h30 ?

J'ai 

Qui a 7h45 ?

J'ai 


Qui a midi ?

J'ai 

Qui a 8h et quart ?

J'ai 

Qui a 20h ?

J'ai 

Qui a 2h moins le quart ?