

		Exercices à faire sur feuille libre
Français	Copie : recopier un texte sans erreur : « Une légende chinoise », de C. Lazier, page 91	x
	Lecture : phonologie : le son [j]	
	Orthographe : les mots en « ier »	
	Orthographe : mots à savoir n°10    n°11	
	Grammaire : retrouver le verbe dans la phrase	
	Grammaire : retrouver le sujet du verbe dans la phrase	
	Conjugaison : les verbes ETRE, AVOIR, au présent	
	Conjugaison : les verbes ALLER, FAIRE, DIRE, VENIR au présent	
	Vocabulaire : des mots de sens opposé	
	Production d'écrit : écrire des charades (utiliser les contraires)	
Maths	Numération : ranger des nombres de 0 à 999	
	Numération : écrire des nombres en lettres	
	Calcul : poser et calculer une addition	x
	Calcul : poser et calculer une soustraction	x
	Calcul : poser et calculer une multiplication	x
	Calcul : utiliser la calculatrice	
	Calcul : la multiplication, x3, x4	
	Calcul mental : x1, x2	
	Géométrie : reproduire sur quadrillage	
	Gestion de données : lire l'heure	
	Résolution de problèmes : problèmes liés aux 3 opérations	

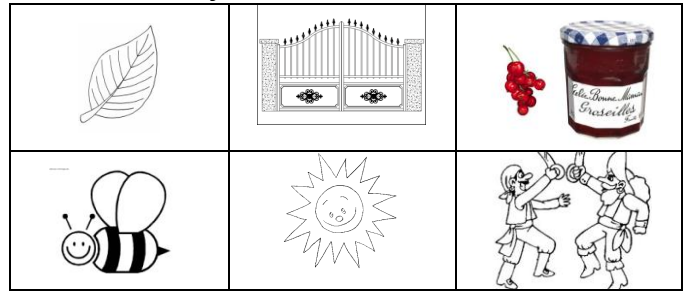
## Bilan du plan de travail :

- Programme tenu
- Programme non tenu
- Programme dépassé

Commentaires :

**Copie** : Recopie le texte « Une légende chinoise » page 91.

**Phonologie** : Colorie en bleu si tu entends [oej], en jaune si tu entends [ej], en rouge si tu entends [aj].



**Orthographe** : Ecris ces mots :

une épicière	un épicier
une cuisinière	un
une ouvrière	un
une charcutière	un
une pomme	un pommier
une poire	un
une banane	un
une cerise	un

**Grammaire** : Entoure les verbes dans ces phrases. Trace la bulle pour retrouver le sujet et souligne-le.

Le ciel est gris, il pleut.
Lucie a six ans.
Elle rêve souvent la nuit.
Le papillon vole très haut.
Les oiseaux chantent.
J'aime faire des jeux mathématiques.

**Conjugaison** : Conjugue au présent :

Je (être)..... en CE1.	Elle (avoir) ..... de la chance.
Tu (avoir) ..... un pull vert.	Vous (avoir) ..... un cahier bleu.
Nous (être) ..... à l'école.	Nous (avoir) ..... un chat.
Ils (être) ..... à la piscine.	Tu (être) ..... très gentil.

**Conjugaison** : Entoure les conjugaisons du verbe ALLER en bleu,

FAIRE en vert,

DIRE en jaune,

VENIR en rouge.

elle vient	il va	nous faisons	ils vont	elles font
je vais	tu dis	je dis	nous allons	je viens
vous faites	tu fais	je fais	tu viens	nous venons

**Vocabulaire** : Entoure les mots contraires de la même couleur.

sale	content	gentil	poli	triste	long
obéir	méchant	propre	court	désobéir	impoli

**Production d'écrit** : Ecris une charade en te servant du modèle.

Mon premier est un insecte qui vit dans les cheveux. -> <b>pou</b> Mon second est le contraire de beau. -> <b>laid</b> Mon tout est un jeune coq. -> <b>poulet</b>	Mon premier
	Mon second
	Mon tout

**Numération** : Range les nombres du plus petit au plus grand.

901	560	328	900	506	910

**Numération** : Range les nombres du plus grand au plus petit.

999	138	368	392	560	672

**Numération** : Relie.

huit cent douze	700
sept cents	812
trois cent quatre-vingts	582
six cent trente-sept	380
cing cent quatre-vingt-deux	845
huit cent quarante-cinq	637

**Numération** : Ecris en lettres.

200	: _____
480	: _____
345	: _____
672	: _____
781	: _____

**Calcul** : Pose et calcule ces opérations.

679-356	548+264	43x2
854-347	389+579	24x2

**Calcul mental** : Ecris le résultat.

5x1 =	2x2 =	6x1 =
10x1 =	7x2 =	7x1 =
3x2 =	10x2 =	7x2 =
6x2 =	8x2 =	9x2 =

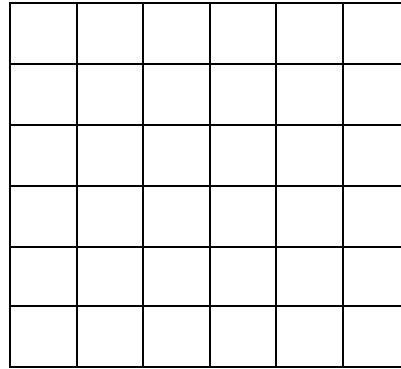
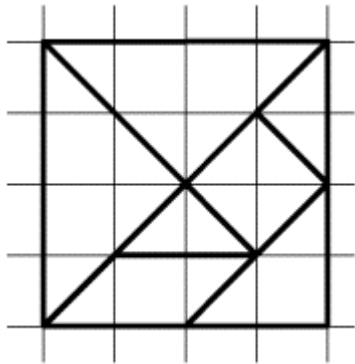
**Calcul** : Utilise ta calculatrice pour trouver le résultat.

569+682 =	356x5 =	562-245 =	563x7 =
437x4 =	783+349 =	413x6 =	673+854 =

**Calcul** : Entoure les résultats de la table x3 en vert, ceux de la table x4 en rouge.

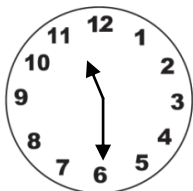


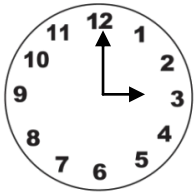
9	16	8	24	6	30
32	27	21	15	20	4
3	12	28	40	30	36

**Géométrie** : Reproduis ce tracé sur le quadrillage de droite. Utilise ta règle !




**Gestion de données : lire l'heure**


Ecris l'heure qui est indiquée sur chaque pendule.




Indique l'heure sur chaque pendule (dessine les aiguilles).




9h



5h



12h30



8h30

**Problème 1**

Lucas achète trois sucettes. Chaque sucette coûte 2€. Combien va-t-il payer ?

Schéma

Calcul :

Phrase réponse :

**Problème 2**

Lucas achète dix roses, quatre tulipes et douze tournesols. Combien a-t-il de fleurs ?

Schéma

Calcul :

Phrase réponse :

