

## Mathématiques CE1 (période 3)

### Fiche 1

Date : \_\_\_\_\_

**Exercice 1 : Ecris ces nombres en chiffres.**

Cent douze	
Quatre cent vingt et un	
Six cent soixante	
Deux cent trente-sept	
Neuf cent quatre-vingt-dix	


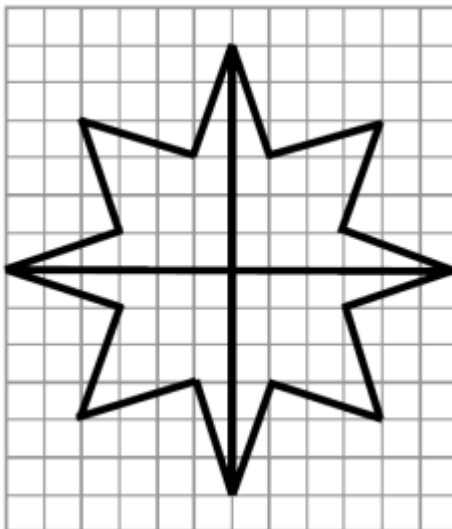
**Exercice 2 : Relie les mêmes nombres par une flèche.**

304	Quatre cent quarante-cinq
698	Cinq cent dix-sept
445	Sept cent soixante et onze
771	Trois cent quatre
517	Six cent quatre vingt-dix-huit

**Exercice 3 : Effectue ces opérations**

$\begin{array}{r} 179 \\ + 43 \\ \hline = \end{array}$	$\begin{array}{r} 97 \\ + 407 \\ \hline = \end{array}$	$\begin{array}{r} 132 \\ + 321 \\ \hline = \end{array}$	$\begin{array}{r} 226 \\ + 204 \\ \hline = \end{array}$	$\begin{array}{r} 58 \\ + 72 \\ \hline = \end{array}$
--	--	---	---	---

**Exercice 4 : Reproduis le dessin sur le quadrillage**

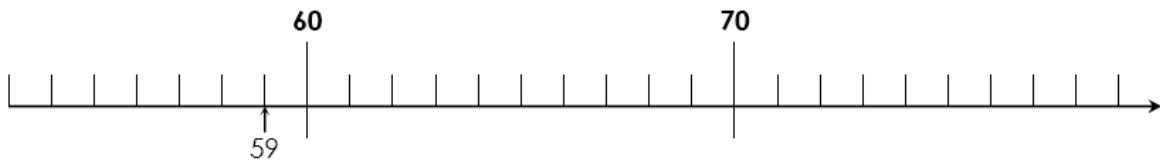


**Exercice 5 : Problèmes à résoudre**

<b>Pb1</b>	Léo s'achète un CD. Il donne un billet de 20€ et la caissière lui rend 6€. Quel est le prix du CD ?
<b>Pb2</b>	Lilian, qui a 12 ans, a 3 ans de plus que Morgane. Quel est l'âge de Morgane ?

**Exercice 1 : Place les nombres sur la droite numérique.**

59 – 75 – 68 – 56 – 78 – 63 – 72



**Exercice 2 : Ecris les coordonnées de chaque objet**

	1	2	3	4	5
A		♣			
B				×	
C			□		
D		○			
E				♥	

×		
○		
□		
♥		
♣		

**Exercice 3 : Colorie les cases de la couleur indiquée.**

vert	B	2
Rouge	D	4
Jaune	A	3
Bleu	C	5
Orange	E	1

	1	2	3	4	5
A					
B					
C					
D					
E					

**Exercice 4 :**

**Quadrillages**    **Repérer les cases**

Colorie le quadrillage de gauche en respectant le code couleur.  
Reproduis le dessin obtenu sur le quadrillage de droite.

1 ⇒ gris    2 ⇒ rose    3 ⇒ rouge

			1			
		1	●	1		
	1	1	1	1		
		1	1			
			3	2		
			3	1	2	
			3	1	1	2
		3	2	2	2	1
	3	1	1	2	1	
1	1	1	1	1		
1	1					
1				1		
1			1		2	
	1				2	
		1	1	1		

			●			

**Exercice 5 :**

• Complète le tableau.

Avant	Nombre	Après
	299	
		302
378		
	389	
		399
		350