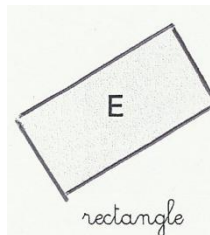
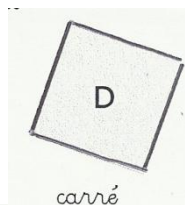
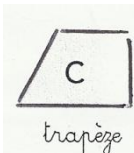
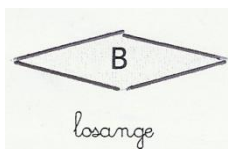
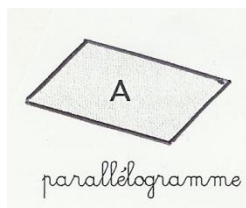




# Les figures planes

**Objectif:** connaître et construire les caractéristiques de différentes figures planes.

1. Observe les figures planes et complète le tableau. Tu peux utiliser tous les outils à ta disposition.



Propriétés	A	B	C	D	E	F
Côtés opposés parallèles						
2 côtés parallèles						
4 angles droits						
Côtés opposés égaux						
4 côtés égaux						
Diagonales se coupent en leur milieu						
Diagonales égales						
Diagonales perpendiculaires						

2. Construis les figures demandées.

Un carré dont la mesure de longueur des diagonales est 4 cm.

Un rectangle dont la mesure de longueur des diagonales est 5 cm.

Un losange dont les mesures de longueur des diagonales sont respectivement 5 cm et 3 cm.