

# La population en Europe



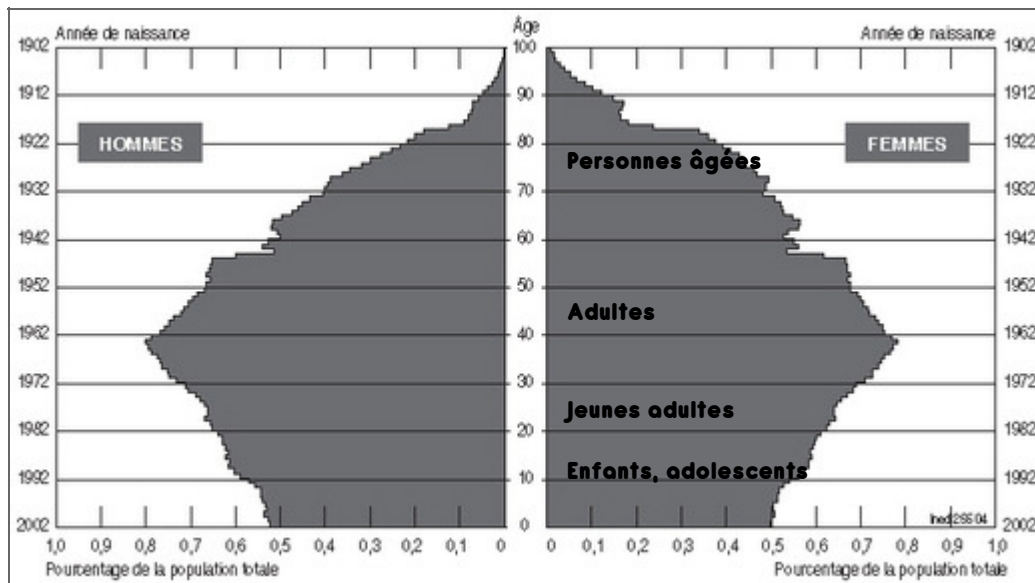
## 1. Les densités de population en Europe

A l'aide de la carte ci-dessus et de la carte des états d'Europe, cite les pays les plus peuplés :

- ✓ .....
- ✓ .....
- ✓ .....
- ✓ .....
- ✓ .....
- ✓ .....

Quelles sont les agglomérations de plus de 5 millions d'habitants ?

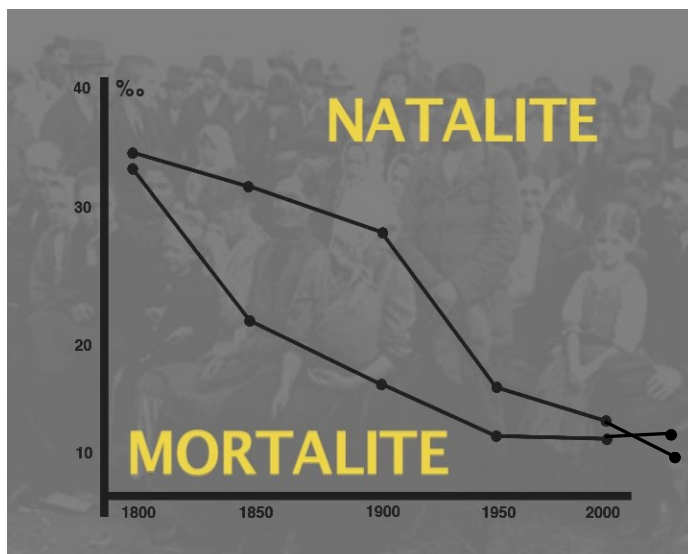
- ✓ .....
- ✓ .....
- ✓ .....
- ✓ .....



Ce document s'appelle une **pyramide des âges**. Il représente le nombre d'hommes et de femmes vivant en Europe en 2003.

Réponds aux questions suivantes :

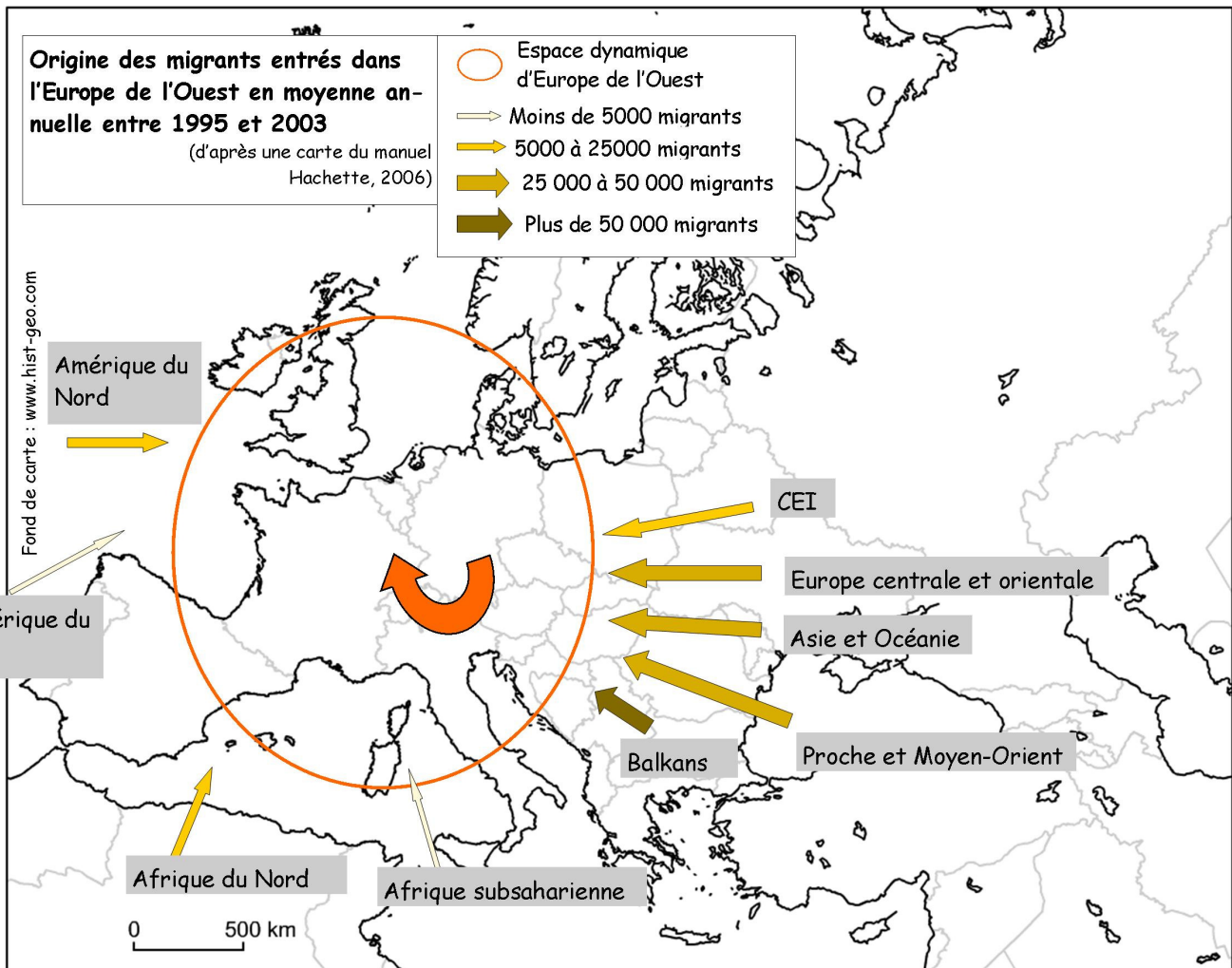
- ✓ Quelle est la partie de la population la plus importante ?
  - les enfants
  - les adultes
  - les personnes âgées
- ✓ La base de la pyramide est-elle large ?
  - Oui
  - non
- ✓ Qu'est-ce que cela signifie ?
  - Il y a beaucoup de naissances
  - Il n'y a pas beaucoup de naissances



*L'évolution des taux de natalité et de mortalité en Europe.*

- ✓ Comment la courbe de la natalité a-t-elle évolué depuis 1800 ?
  - elle monte
  - elle descend
- ✓ Comment la courbe de la mortalité a-t-elle évolué depuis 1800 ?
  - elle monte
  - elle descend
- ✓ Que se passe-t-il depuis les années 2000 ?
  - il y a plus de naissances que de décès
  - il y a plus de décès que de naissances

## L'immigration européenne



### **Les migrations en Europe**

L'Europe, et surtout la France, a fait appel à des travailleurs originaires du Maghreb dans la période de reconstitution après la guerre afin de combler un déficit de main-d'œuvre. Plus tard, sont arrivées en Europe des populations d'Afrique de l'Ouest. À partir des années 1970, les réglementations se sont durcies et l'immigration a diminué. Toutefois, les immigrés déjà installés ont été autorisés à faire venir leur famille (regroupement familial). Dans les années 1980, dans le cadre du traité de Maastricht, les pays de l'Union européenne ont décidé de fermer leurs frontières extérieures. Cette décision a entraîné une recrudescence de l'immigration clandestine.

Y. Lacoste, *Géographie*, Editions de la Cité 1999

- ✓ Dans quelle partie de l'Europe les immigrés viennent-ils ? .....
- ✓ D'après toi, pourquoi s'installent-ils en Europe ? .....
- ✓ Indique les grandes périodes de l'immigration dans le tableau suivant :

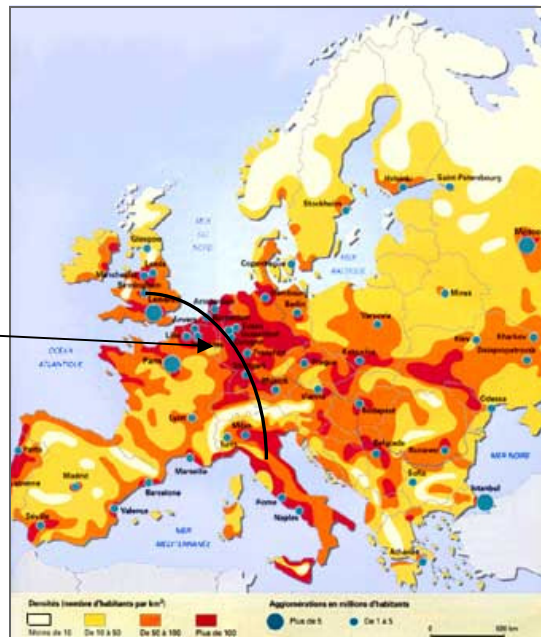
Après la guerre	
Un peu plus tard	
Années 1970	
Années 1980	

## La population en Europe

L'Europe est un continent très peuplé. C'est le troisième foyer de peuplement de la planète. Mais la population est très inégalement répartie.

- ✓ Les densités sont très fortes sur une diagonale qui va de l'Angleterre au Nord de l'Italie.
- ✓ Les régions les moins densément peuplées sont situées au Nord de l'Europe et dans les hautes montagnes, à cause des conditions climatiques.

Densités très fortes



L'Europe est un continent attractif.

- ✓ Les pays de l'Europe de l'Ouest attirent des personnes issues d'autres pays à la recherche d'un travail et d'une vie meilleure.
- ✓ Les immigrants conservent leurs coutumes et leur religion et ils s'intègrent à leur pays d'accueil.

**Densité** : nombre d'habitants vivant sur un espace carré d'1 km de côté.