

Nom :	Score	Appréciation	Signature
Prénom :	20		
Date : / / 201...			

Exercice 1 (..... / 6 points)

Trace ci-contre :

1. En rouge, le segment d'extrémités A et B.
Comment ce segment s'écrit-il ?
2. En vert la demi-droite d'origine B passant par C.
Comment s'écrit-elle ?
3. En bleu, la droite passant par c et A.
Comment s'écrit-elle ?

C
X

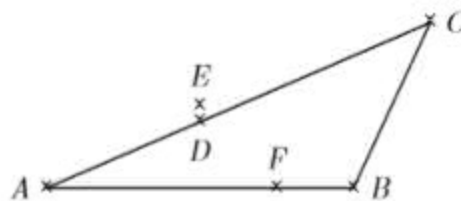
A
X

B
X

Exercice 2 (..... / 5 points)

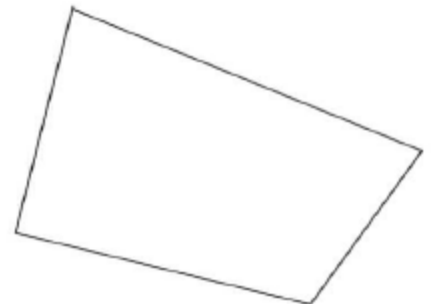
Complète avec le signe \in ou \notin :

D [AC] B [AF] E (AC) B [EF] B (CD)



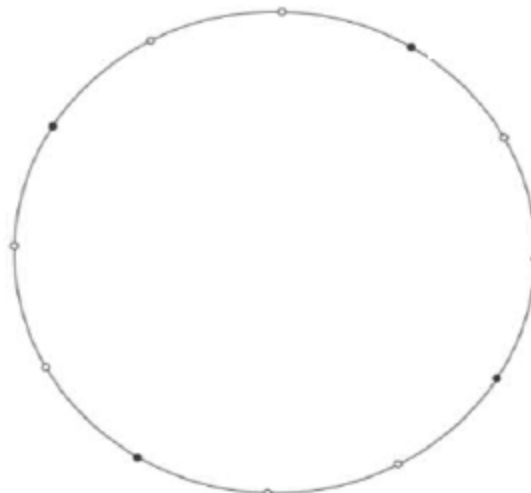
Exercice 3 (..... / 3 points)

Reproduis, à l'aide du compas, la figure ci-dessous au dos de la feuille :



Exercice 4 (..... / 3 points)

Reproduis la figure ci-dessous.



Exercice 5 (..... / 3 points)

Ecrire une consigne permettant de passer de l'image de gauche à l'image de droite, au dos de la feuille.

