

Note : la plus basse -- moyenne -- la plus haute

Mes réussites :	A	ECA	NA	→ points
1- Je sais lire des fractions simples				/4
2- Je sais écrire des fractions simples				/4
3a - Je sais représenter des fractions simples				/4
3b - Je sais représenter des fractions simples				/4
3c - Je sais représenter des fractions simples				/4

Date :/...../.....

1 Écris ces fractions simples en lettres :

- $\frac{1}{4}$ ⇒
- $\frac{2}{3}$ ⇒
- $\frac{7}{10}$ ⇒
- $\frac{3}{5}$ ⇒

2 Écris ces fractions simples en chiffres :

trois demis ⇒

cinq dixièmes ⇒

deux cinquièmes ⇒

quatre neuvièmes ⇒

nom + prénom :

3 Quelle fraction correspond à chaque représentation ? Écris-la :



⇒



⇒

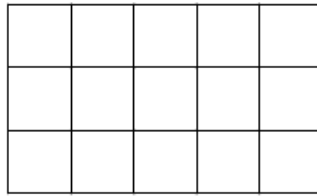


⇒

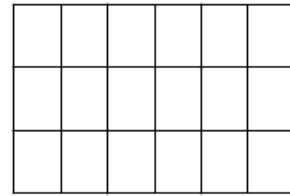


⇒

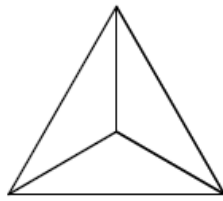
4 Colorie la partie correspondant à la fraction donnée :



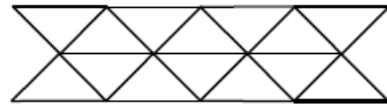
a. $\frac{3}{15}$



b. $\frac{13}{18}$



c. $\frac{1}{3}$



d. $\frac{7}{14}$

5 Trace des segments ayant respectivement pour longueur : $\frac{2}{6}u$; $\frac{1}{4}u$; $\frac{3}{4}u$; $\frac{3}{2}u$

