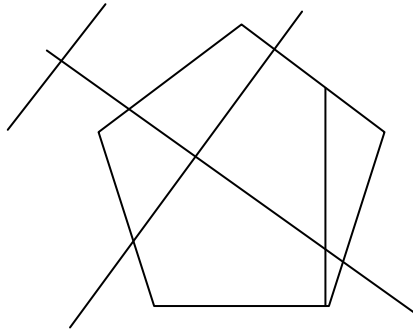


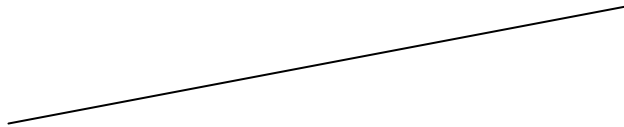
Prénom : _____

Révisions de géométrie – période 4 - CE2

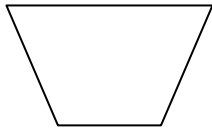
1. Marque les angles droits. Vérifie avec l'équerre.



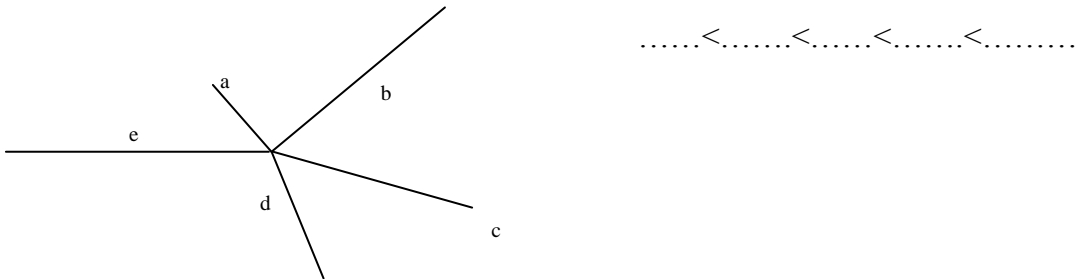
2. Trace 2 droites qui forment un angle droit avec la droite (d).




3. Sur cette droite, reporte les mesures des côtés de cette figure.



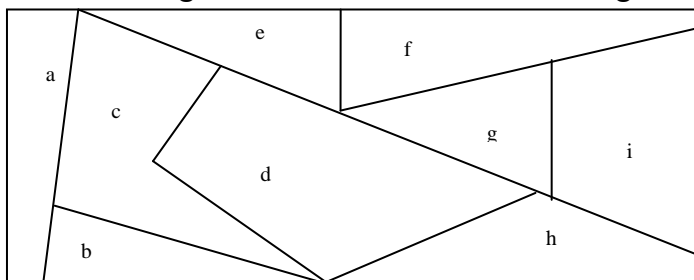
4. Classe ces segments du plus court au plus long. Utilise le compas.



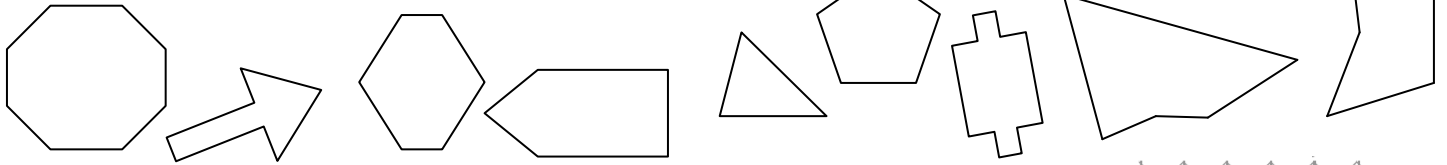
5. Entoure les figures qui sont des polygones.



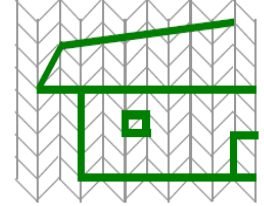
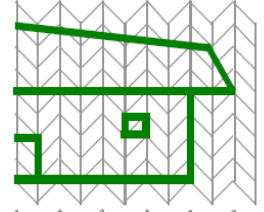
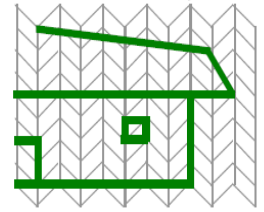
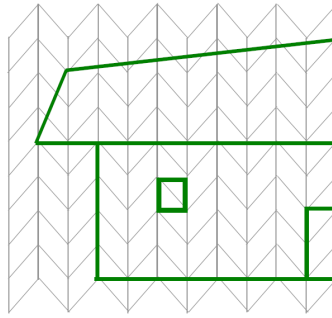
6. Colorie en jaune les figures à 3 côtés et en rouge les figures à 4 côtés.



7. Entoure les figures qui ont 5 angles.



8. Entoure la figure symétrique parmi les 3 proposées.



9. Trace quand c'est possible l'axe de symétrie de ces figures.



10. Trace les symétriques de ces 2 figures.

