

Prénom :

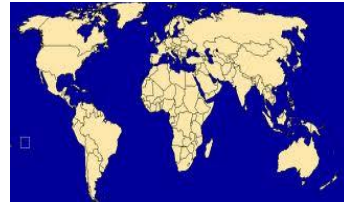
Date :



La Terre, notre planète

Différentes représentations de la Terre

Ecris la bonne légende sous chaque image : planisphère , globe terrestre



Quelle forme a notre planète ?

Notre planète est

Quelle est la couleur la plus importante ?

C'est le

Qu'est-ce qui donne cette couleur à la Terre ?

C'est

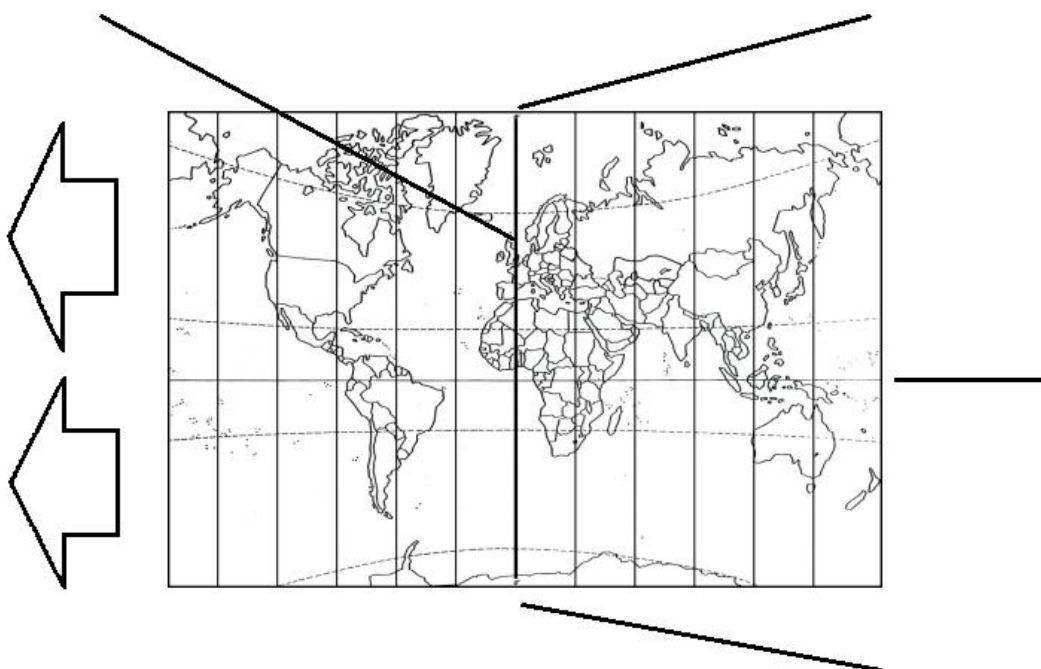
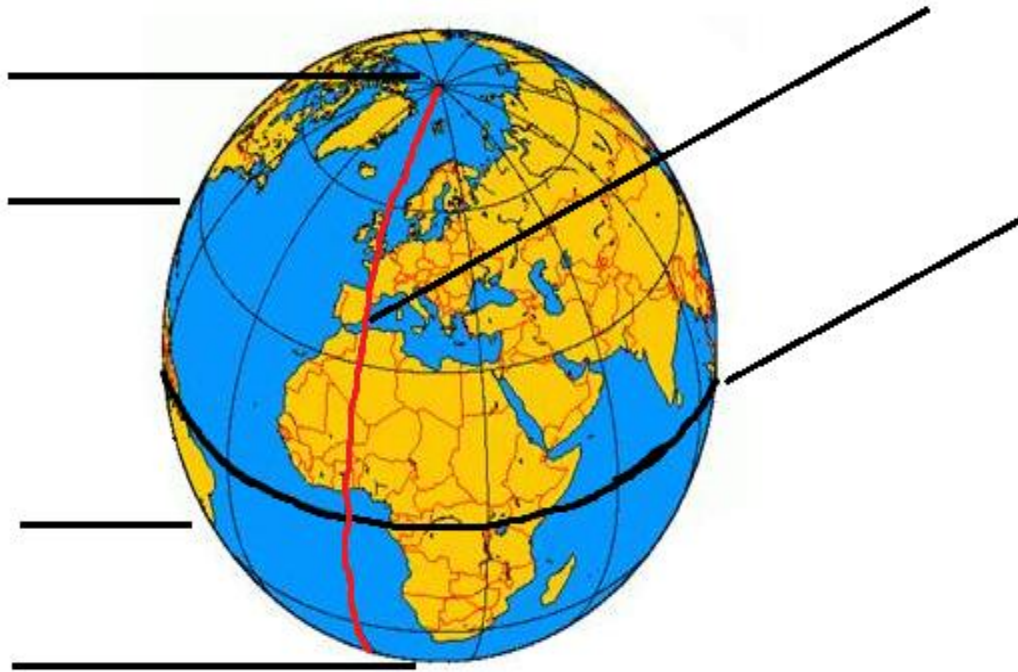
Notre planète, la Terre est ronde. Elle est le plus souvent représenté par une maquette appelée le **globe terrestre** (il faut le faire tourner pour voir la Terre en entier) ou par un **planisphère** (la Terre est entière mais déformée).

Vu de l'espace, la Terre paraît bleu car ce sont les océans qui recouvrent le plus de place, c'est pour cela que la Terre est appelé « la planète bleue ».



Vocabulaire du globe terrestre

Sur chaque dessin, écris chaque légende au bon endroit : équateur, pôle Nord, pôle Sud, méridien de Greenwich, hémisphère Nord, hémisphère Sud,



Prénom :

Date :



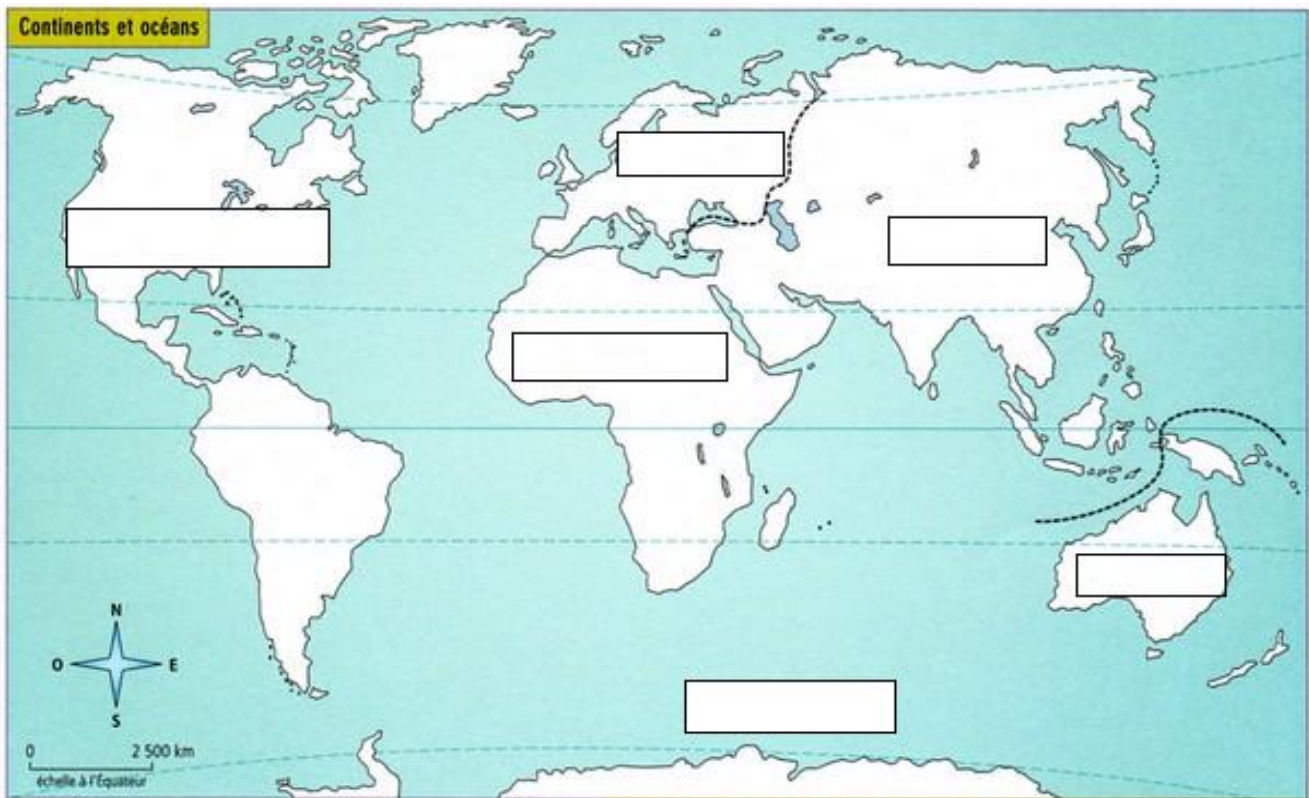
La Terre, notre planète

Les continents

Sur la Terre, on distingue 6 **continents** : ce sont de vastes étendues de terre continues à la surface du globe terrestre.

Place le nom des 6 continents sur la carte suivante :

Europe, Asie, Afrique, Amérique, Océanie, Antarctique



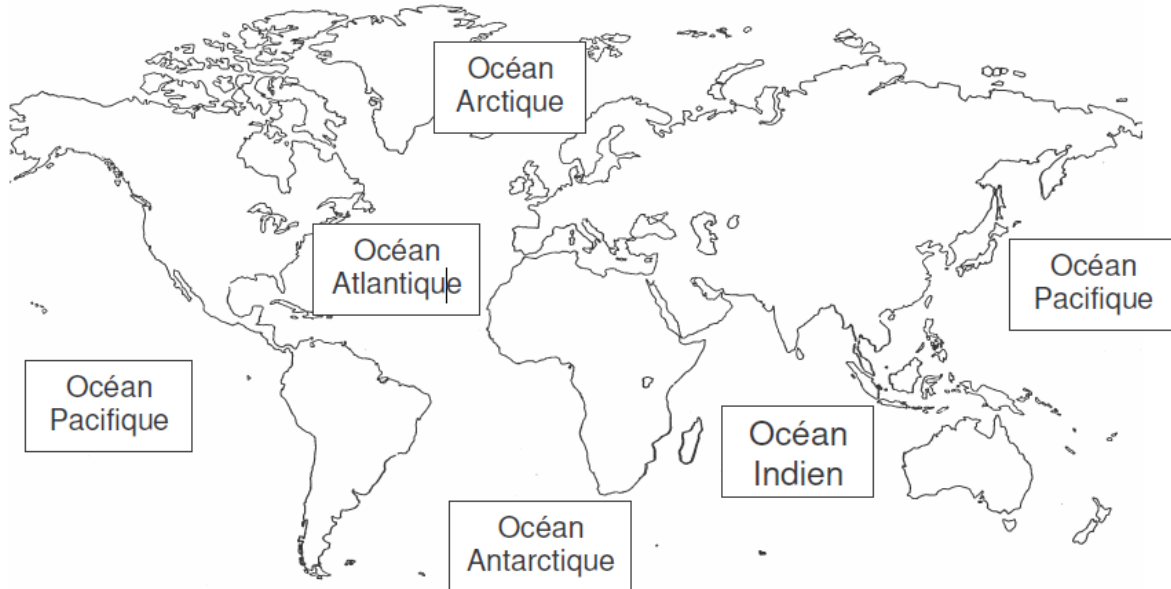
Sur un planisphère ou sur un globe, trouve le nom de 3 pays par continent :

Continent	Pays 1	Pays 2	Pays 3
Europe			
Asie			
Océanie			
Afrique			
Amérique			



Sur la Terre, on distingue 5 océans :

L'océan recouvre les trois quart du globe terrestre.



Le plus grand des océans est l'océan

La France est bordée par l'océan

L'Afrique, l'Asie et l'Océanie son bordées par l'océan

L'océan

 est au niveau du pôle Nord.

L'océan

 est au niveau du pôle Sud.



Prénom :

Date :

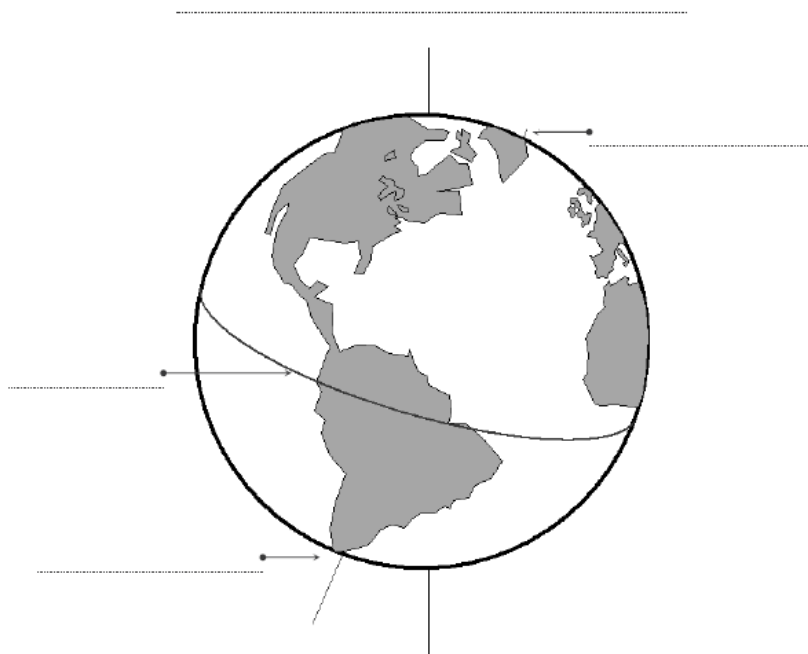


Evaluation

La Terre, notre planète

Sur chaque ligne écris le vocabulaire suivant :

Hémisphère Nord, Hémisphère Sud, pôle Nord, pôle Sud, équateur



Relie chaque image à sa définition :



●



●



●

●

Planisphère

●

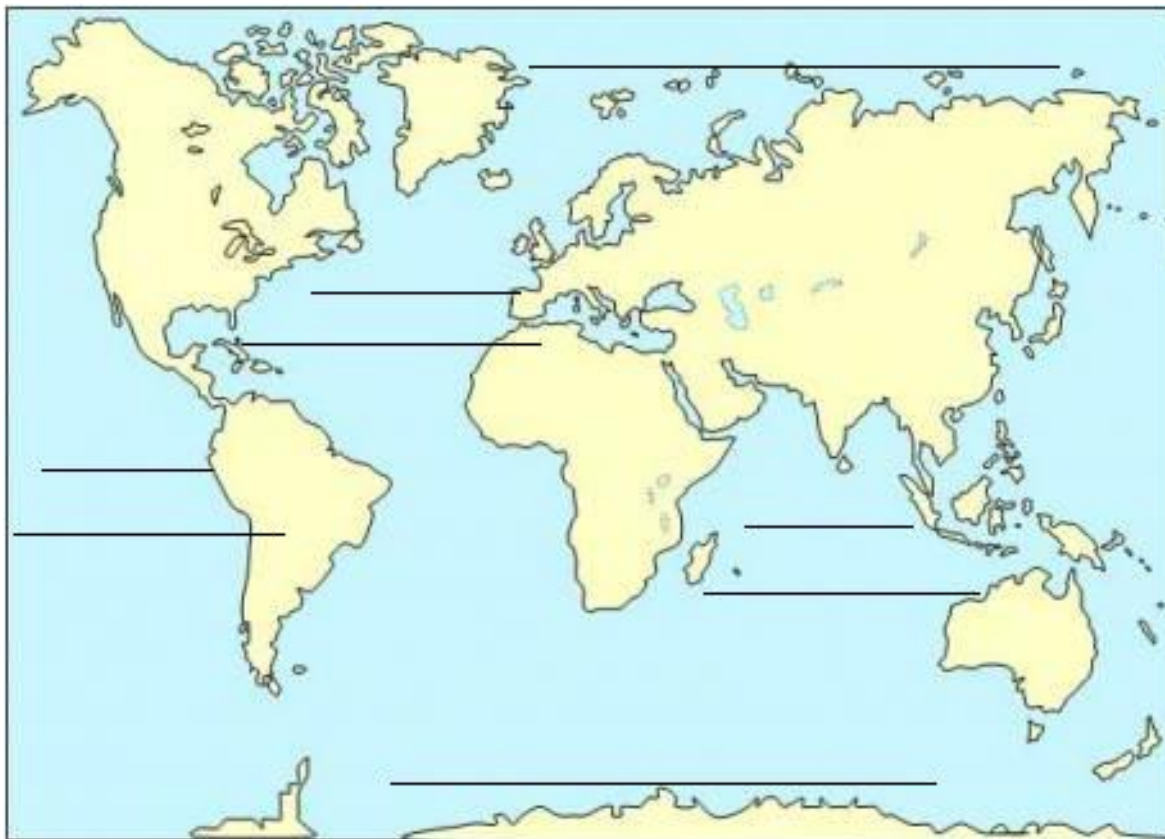
Globe terrestre

●

Terre vue par satellite



Sur la carte suivante, écris le nom des océans :



En regardant la carte qui est au tableau, colorie la légende avec les bonnes couleurs :

Europe

Asie

Afrique

Amérique

Océanie

Antarctique



