

CEINTURE VERT FONCE / BLANCHE  
FICHE 1/4

- Ecris en lettres.

6 ⇒ \_\_\_\_\_

36 ⇒ \_\_\_\_\_

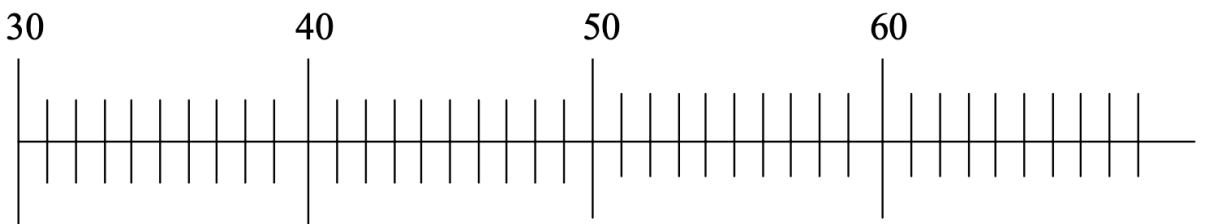
16 ⇒ \_\_\_\_\_

63 ⇒ \_\_\_\_\_

60 ⇒ \_\_\_\_\_

62 ⇒ \_\_\_\_\_

Place les nombres suivants : 64 / 59 / 67 / 45 / 33



Complète :

Avant	Nombre	Après
	68	
		70
65		
	64	
		61
		50

- Complète avec les signes < ou >.

36 \_\_\_ 63

37 \_\_\_ 67

35 \_\_\_ 53

15 \_\_\_ 51

48 \_\_\_ 68

69 \_\_\_ 49

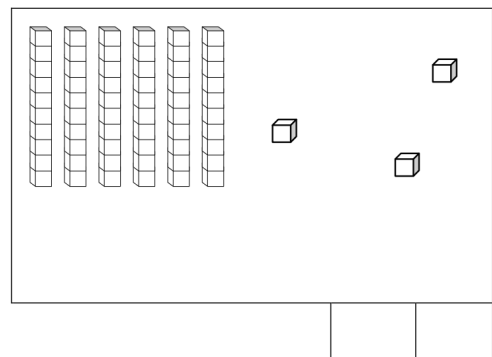
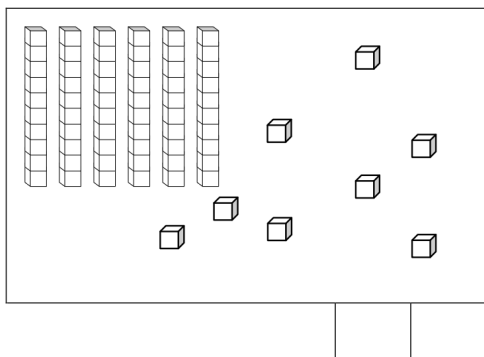
65 \_\_\_ 56

59 \_\_\_ 49

- Entoure les nombres qui sont **entre 53 et 63**

52      51      49      54      65      61      60      57

Complète :



- Range du plus petit au plus grand :

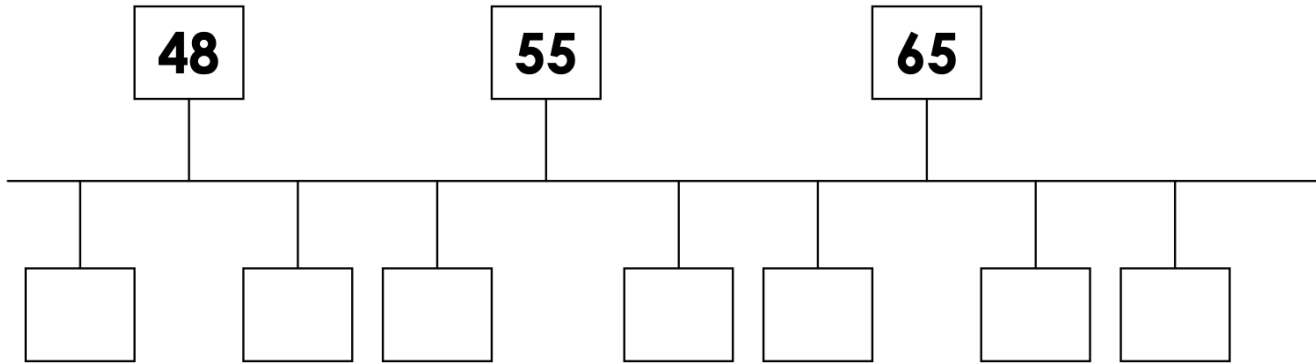
46 – 63 – 36 – 64 – 31 – 13 – 60

□ < □ < □ < □ < □ < □ < □

CEINTURE VERT FONCE / BLANCHE  
FICHE 2/4

- Place les étiquettes des nombres suivants :

41 17 56 - 53



Compare :

64 . 50+9

59 . 69

60+3 . 60+5

60+7 . 60+1

67 . 45

60+5 . 56

60+7 . 10+10+10+10+10+10+1

- Range du plus grand au plus petit :

65 - 52 - 24 - 42 - 35 - 56 - 60

>  >  >  >  >  >

Relie :

soixante-sept	61
soixante et un	67
soixante cinq	69
soixante neuf	65

60+2	10+10+10+10+10+10+2
60+4	10+10+10+10+10+10+7
60+7	10+10+10+10+10+10+4
60+8	10+10+10+10+10+10+8

CEINTURE VERT FONCE / BLANCHE  
FICHE 3/4

• Relie.

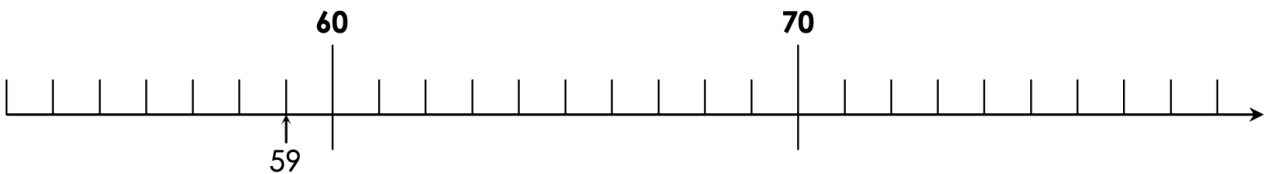
- |                          |      |
|--------------------------|------|
| <i>soixante-deux</i> •   | • 63 |
| <i>soixante-treize</i> • | • 73 |
| <i>soixante-douze</i> •  | • 62 |
| <i>soixante-trois</i> •  | • 72 |

• Complète.

avant	nombre	après
	73	
69		
	71	

• Place les nombres sur la droite numérique :

59 – 75 – 68 – 56 – 78 – 63 – 72



• Range les nombres du plus petit au plus grand.

62 – 74 – 47 – 26 – 72 – 64

<  <  <  <  <

• Décompose les nombres.

Exemple :  $67 = 60 + 7$

- |  |  |  |
|--|--|--|
| $54 = \underline{\quad} + \underline{\quad}$ | $79 = \underline{\quad} + \underline{\quad}$ | $64 = \underline{\quad} + \underline{\quad}$ |
| $62 = \underline{\quad} + \underline{\quad}$ | $74 = \underline{\quad} + \underline{\quad}$ | $76 = \underline{\quad} + \underline{\quad}$ |
| $78 = \underline{\quad} + \underline{\quad}$ | $68 = \underline{\quad} + \underline{\quad}$ | $70 = \underline{\quad} + \underline{\quad}$ |





• Calcule.

- |                              |                              |                              |
|------------------------------|------------------------------|------------------------------|
| $70 + 2 = \underline{\quad}$ | $50 + 7 = \underline{\quad}$ | $50 + 6 = \underline{\quad}$ |
| $60 + 5 = \underline{\quad}$ | $60 + 4 = \underline{\quad}$ | $60 + 6 = \underline{\quad}$ |
| $70 + 9 = \underline{\quad}$ | $70 + 7 = \underline{\quad}$ | $50 + 5 = \underline{\quad}$ |

• Entoure les nombres **plus grands que 62**.

- 75 71 61 59 76 51 26 77 79 49 70
- 58 64 72 78 45 63 67 68 74 73 69

CEINTURE VERT FONCE / BLANCHE  
FICHE 4/4

D	U	D	U	D	U
					
<input style="width: 80px; height: 30px;" type="text"/>			<input style="width: 80px; height: 30px; text-align: center; border: 1px solid blue;" type="text" value="71"/>		<input style="width: 80px; height: 30px;" type="text"/>

- Entoure les nombres compris **entre 69 et 79**.

68 72 56 73 77 58 62 78 59 73 71  
63 64 74 75 23 27 70 61 65 67 21

- Complète la suite.

67 - 68 - \_\_\_\_\_ - \_\_\_\_\_ - \_\_\_\_\_ - \_\_\_\_\_ - \_\_\_\_\_ - \_\_\_\_\_ - \_\_\_\_\_ - \_\_\_\_\_ - \_\_\_\_\_

- Range les nombres du plus petit au plus grand.

74 - 79 - 77 - 73 - 70 - 78

<  <  <  <  <  <

- Barre le nombre mal rangé.

⇒ 32 - 33 - 34 - 45 - 36 - 37

⇒ 65 - 66 - 67 - 78 - 69 - 70

**Relie :**

70+2	78	60 + 12
70+4	77	60 + 17
70+7	72	60 + 14
70+8	74	60 + 18

soixante-dix-sept	10+10+10+10+10+10+10+1
soixante et onze	10+10+10+10+10+10+10+7
soixante-quinze	10+10+10+10+10+10+10+5
soixante-dix-neuf	10+10+10+10+10+10+10+9

# CEINTURE VERT FONCE / BLANCHE VALIDATION

• Relie.

- |                     |   |    |
|---------------------|---|----|
| Soixante et onze •  | • | 75 |
| Soixante-dix •      | • | 73 |
| Soixante-treize •   | • | 70 |
| Soixante-trois •    | • | 68 |
| Soixante-quinze •   | • | 63 |
| Soixante-cinq •     | • | 78 |
| Soixante-dix-huit • | • | 71 |
| Soixante-huit •     | • | 65 |
| Soixante-dix-neuf • | • | 79 |
| Soixante-neuf •     | • | 69 |

**Ecris les nombres :**

Dizaines	Unités
	⇒ _____

Dizaines	Unités
	⇒ _____

Dizaines	Unités
	⇒ _____

**Dessine :**

D	U

67

D	U

76

**Compare < ou > :**

64 . 60+19

78 . 61

70+3 . 70+5

10+10+10+10+10+10+7 . 60+11

67 . 78

60+5 . 60+11

60+7 . 10+10+10+10+10+10+10+1

**Range du plus petit au plus grand : 64 / 47 / 74 / 46 / 71 / 69**

	<		<		<		<		<	
--	---	--	---	--	---	--	---	--	---	--

**Calcule:** 60 + 19 = .....

70 + 3 = .....

60 + 7 = .....

10+10+10+10+10+10+7 = .....

60 + 11 = .....

60 + 5 = .....

60 + 15 = .....

60 + 3 = .....

10+10+10+10+10+10+10+1