



Évaluation diagnostique CE2

NOM : _____

Prénom : _____


Disciplines évaluées

	TB	B	AB	AR
Étude de la langue.				
Lecture / Écriture / Compréhension.				
Numération / Calcul.				
Grandeurs et mesures / Géométrie.				
Problèmes.				



Étude de la langue

Score : _ _ _ _ / 10

	A	B	C	D	
Comment écrit-on le verbe dans la phrase suivante ? Il (dessiner) un bonhomme.	dessinent	dessine	dessines	dessinez	
Quel est le contraire du mot souligné dans la phrase suivante ? Le bambou pousse <u>rapidement</u> .	vite	étrangement	lentement	dehors	
Quel groupe de mots est correctement orthographié ?	des enfants	un enfants	le enfan	les enfant	
Quel mot appartient à la même famille que les mots suivants ? dent – dentaire - dentiste	danser	dans	dentifrice	dénouer	
Que manque-t-il à la phrase suivante pour qu'elle soit correcte ? mathis dévore une glace à la vanille.	une virgule après « glace »	une majuscule à « vanille »	un point après « dévore »	une majuscule à « mathis »	
Quel mot correspond le plus précisément à l'image ?		album	journal	magazine	roman
Quelle liste de mots est écrite dans l'ordre alphabétique ?	tortue panda serpent zèbre	panda serpent zèbre tortue	panda serpent tortue zèbre	serpent tortue zèbre panda	
Dans le groupe de mots « l'étoile polaire », quelle est la nature du mot « étoile » ?	un nom	un verbe	un adjectif	un pronom	
Quel est l'infinitif du verbe « chantes » ?	chantier	chantes	chanter	chantera	
Qu'est-ce qu'un géranium ?	une voiture	un outil	un meuble	une plante	



Lecture / Ecriture Compréhension

Score : _ _ _ _ / 7

Le loup

Le sais-tu?
Le loup pousse des hurlements pour rassembler la meute.

L'alimentation:

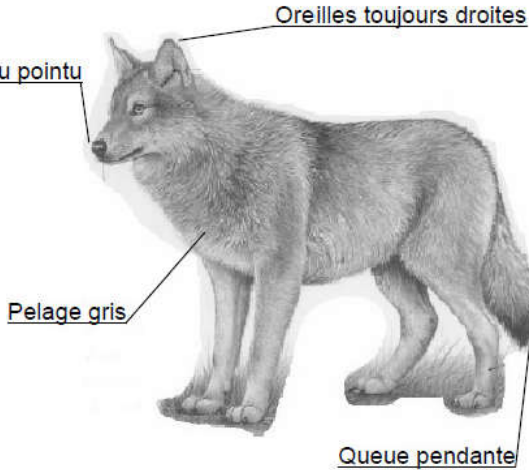
Le loup est le cousin du chien, il est carnivore.

Il chasse en meute les petits animaux, mais aussi les cerfs et les chevreuils.

La reproduction:

Au printemps, la louve s'installe dans un trou creusé dans la terre qui s'appelle une tanière pour donner naissance à 5 à 6 petits louveteaux.

Au bout d'un mois environ, ils sortent de la tanière. A l'âge de 5 mois, ils peuvent suivre la meute.



Le retour du loup:

Avant, il y avait beaucoup de loups en France mais ils ont été chassés par l'homme et ont failli disparaître.

Aujourd'hui, c'est une espèce protégée, c'est-à-dire qu'il est interdit de les chasser.

* meute: groupe d'une famille d'une dizaine de loups.

Lis le texte puis réponds aux questions :

1 / Qui chassait le loup ?

2 / Comment s'appellent les petits de la louve ?

3 / Comment le loup rassemble-t-il sa meute ?

4 / Quelle est la position des oreilles d'un loup ?

5 / Qu'est-ce qu'une meute ?

6 / Quel est l'animal cousin du loup ?

7 / Ecris une phrase avec les mots loup, museau et pointu.



Numération

Calcul



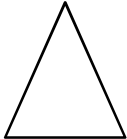
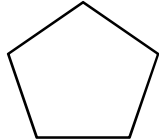
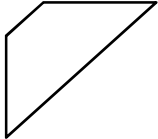
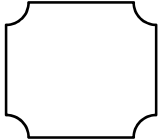
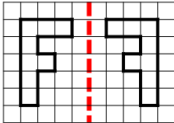
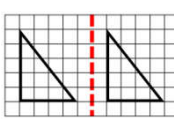

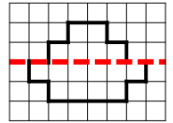
Score : _ _ _ _ / 14

	A	B	C	D
Complète cette suite de nombres : 230 – 240 – 250 – ?	350	260	251	300
Quel est le double du nombre 50 ?	25	500	250	100
Comment écrit-on en chiffres le nombre « quatre-cent-quarante-six » ?	46	4 046	446	4 406
Dans le nombre 859, 5 est le chiffre des...	unités	dizaines	centaines	milliers
Dans 1 centaine, combien y-a-t-il d'unités ?	1	10	100	1 000
Le résultat de l'addition 567 + 48 est...	615	519	617	605
Le résultat de l'addition 321 + 436 est...	727	737	747	757
Quel est le résultat de 180 – 60 ?	110	120	130	140
Le résultat de la soustraction 941 – 23 est...	908	915	918	921
Le résultat de la soustraction 874 – 362 est...	512	522	532	542
Par quel chiffre doit-on remplacer le point d'interrogation pour que le calcul soit correct dans « 5 x ? = 30 » ?	5	6	7	8
Quel est le résultat de 9 x 2 ?	14	16	18	20
Quel est le résultat de 232 x 2 ?	444	464	484	504
Quel est le résultat de 25 x 5 ?	105	115	125	135



Mesures & géométrie

Score : / 11

	A	B	C	D
Combien pèse un petit chien ?	12 kg	12 g	12 L	12 m
Quelle est la hauteur de la porte de la classe ?	2 cm	2 m	2 km	2 mm
Quelle distance sépare Paris de Lyon ?	500 m	500 cm	500 mm	500 km
Dans une heure, combien y-a-t-il de minutes ?	24	12	60	365
Quelle quantité d'eau contient une casserole d'eau ?	3 cm	3 L	3 g	3 km
Quel mois est juste avant novembre ?	octobre	septembre	février	décembre
Quel est le nom de la figure suivante ? 	un carré	un losange	un rectangle	un triangle
Comment se nomme le trait suivant ? 	une droite	un point	un segment	un milieu
Quelle figure n'est pas un polygone ?				
Pour savoir si un angle est droit, quel instrument faut-il utiliser ?	une règle	un compas	une équerre	une gomme
Parmi les figures suivantes, lesquelles sont symétriques par rapport à l'axe ?				



Problèmes

Score : _ _ _ _ / 9

1 Pour les lots de la kermesse, la maîtresse achète 114 pistolets à eau, 28 balles et 45 bracelets. **En tout, combien de lots achète-t-elle ?**

Calcul

Phrase réponse

2 Dans la classe, il y a 20 élèves. La maîtresse distribue 3 cahiers et 5 crayons à chaque élève. **Combien la maîtresse distribue-t-elle de cahiers en tout ?**

Calcul

Phrase réponse

3 Baptiste a 76 billes. C'est 23 de plus que Capucine. **Combien Capucine a-t-elle de billes ?**

Calcul

Phrase réponse