

Correction des exercices de géométrie de jeudi 26/03

Ex. 1 p 122

Seuls les figures A, C et D sont des polygones car ce sont des figures **fermées** constituées de **segments** (pas de lignes courbes).

Ex. 4 p 123

Il a 6 côtés, c'est un hexagone.

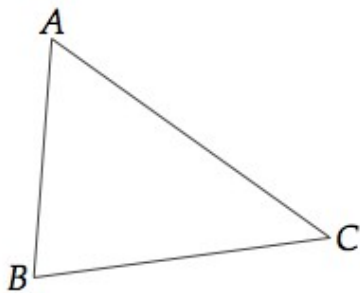
2 quadrilatères : CDEG - AGEF

2 triangles : ABC - ACG

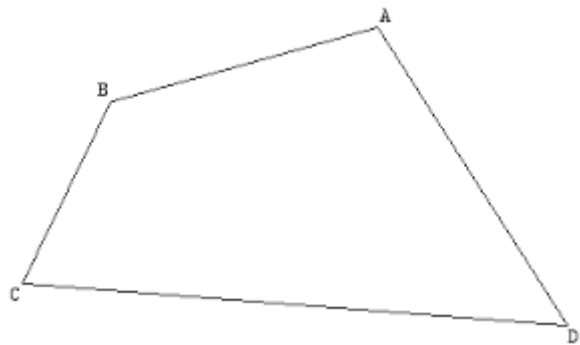
2 hexagones : ABCDEF - ABCGEF - ABCDEG - AGCDEF

2 pentagones : ACDEF - ACGEF

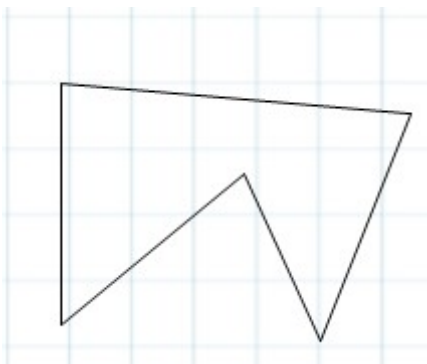
Ex. 5 p 123



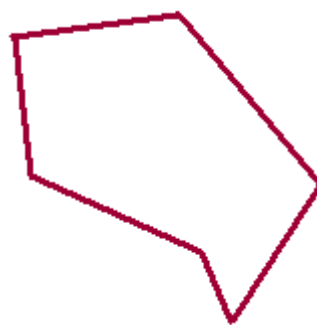
polygone à 3 côtés : **triangle**



polygone à 4 côtés : **quadrilatère**



polygone à 5 côtés : **pentagone**



polygone à 6 côtés : **hexagone**