


GRANDEURS ET MESURES
Les périmètres

CM2




Pour calculer le périmètre d'une figure

Tu calcules la longueur totale de son contour.



Périmètre du rectangle : (longueur + largeur) x 2




5 cm

3 cm

Périmètre = (5 cm + 3 cm) x 2 = **16 cm**

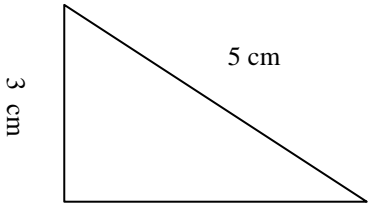
Périmètre du carré : côté x 4

3 cm



Périmètre = 3 cm x 4 = **12 cm**

Périmètre du triangle : côté + côté + côté



4 cm

Périmètre = 5 cm + 4 cm + 3 cm = **12 cm**