

CONSTRUCTION DE TABLEAUX

1 Les élèves de CE2, CM1 et CM2 d'une école ont la possibilité de suivre un atelier le mardi midi.

- Dans la classe des 23 élèves de CE2, 6 sont inscrits à l'atelier jonglerie et 3 au théâtre.
- Dans la classe des 28 élèves de CM1, 4 sont inscrits à l'atelier jonglerie.
- Dans la classe de CM2, 7 élèves sont inscrits à l'atelier théâtre.

Nombre d'élèves ...	dans la classe	à l'atelier jonglerie	à l'atelier théâtre
CE2			
CM1			
CM2			
Total	78	15	14

a. Complète le tableau.

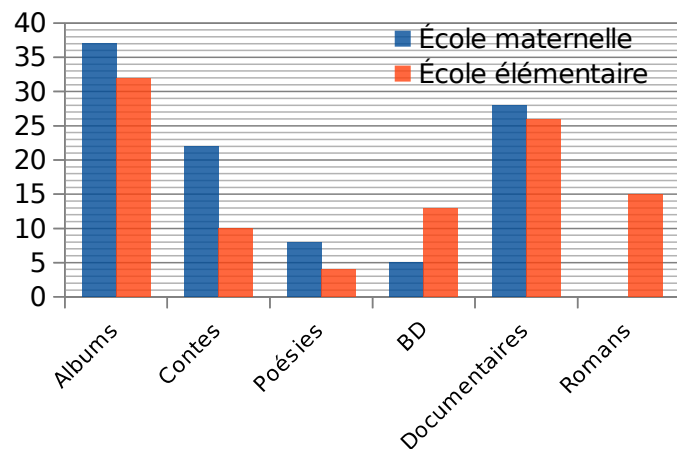
b. De combien d'élèves est constituée la classe de CM2 ?

.....

c. Combien d'élèves de CM1 suivent un atelier ?

.....

2 Une école primaire a recensé les différentes catégories de livres de la BCD en pourcentage.



a. Complète le tableau à l'aide des données.

	Albums	Contes	Poésies	BD	Documen taires	Romans
École maternelle	%					
École élémentaire						

b. Quelle est la catégorie de livres la moins représentée pour chaque école ?

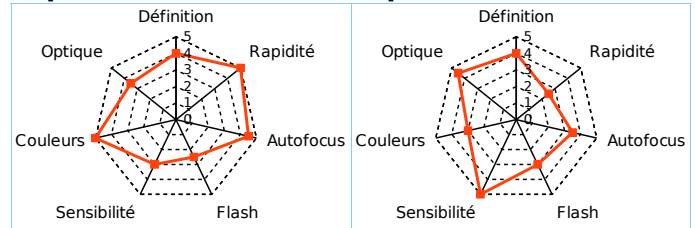
.....

.....

3 Un laboratoire a testé quatre appareils photo et a obtenu les résultats suivants.

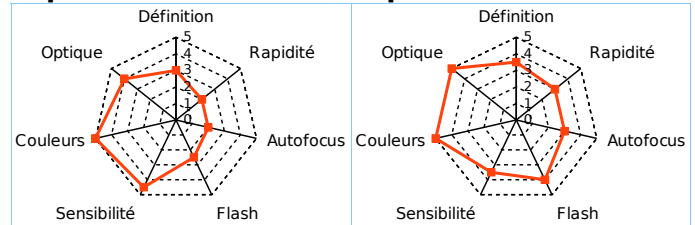
Expert 2789

Expert 2929



Expert 3212

Expert 3427



Complète le tableau à l'aide des données.

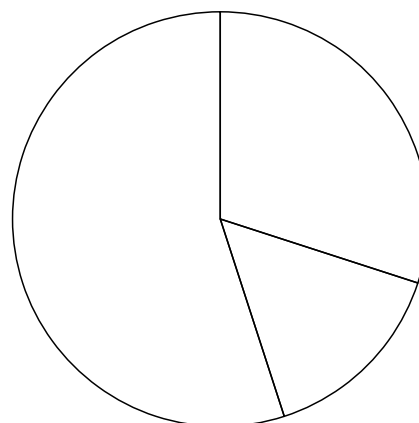
Appareil expert	Définition	Optique	Couleurs	Sensibilité	Flash	Autofocus	Rapidité
2789							
2929							
3212							
3427							

4 À l'échelle de la France entière, 55 % des enfants de CM2 n'ont pas de carie, 15 % ont une dent cariée et près de 30 % en ont au moins deux dont 22 % sont soignées et 8 % ne le sont pas.

a. Complète le tableau ci-dessous en indiquant les pourcentages correspondants.

Aucune dent cariée	1 dent cariée	Au moins 2 dents cariées

b. Colorie le diagramme circulaire et la légende correspondant à ces données.



- Aucune dent cariée
- 1 dent cariée
- Au moins 2 dents cariées