

# La forêt des 10

## Objectifs :

- ✓ Connaitre les compléments à 10

## Règle du jeu :
























































































Les élèves ont chacun un pion et se placent sur le départ. Ils lancent le dé pour avancer. Le but du jeu est d'indiquer combien il manque pour aller jusqu'à 10.

## Pour l'impression du jeu :

Imprimer le jeu pour un groupe d'environ 3 à 4 élèves.


## A quel moment faire ce jeu ?

Lors de l'étude des compléments à 10, lorsque l'objectif est surtout la mémorisation. Période 1 du CE1

											3		6	9		8
		4	6	5						4						4
1		2		1								2		7		8
5	8			3		7		2		10				1		5
				2		4		9				4				
2	9	1						5		9						5
10						3		7		6		7				
8	8	3		1	9	7			7	10			3	6		4

 La forêt des 10 

 : rejoue

 : fais avancer un camarade du même nombre que toi

 : recule d'une case

 : avance d'une case

 : coulé! Retourne au départ

Pour vérifier les réponses :

$$0 + 10 = 10$$

$$1 + 9 = 10$$

$$2 + 8 = 10$$


$$3 + 7 = 10$$

$$4 + 6 = 10$$

$$5 + 5 = 10$$

 La forêt des 10 

 : rejoue

 : fais avancer un camarade du même nombre que toi

 : recule d'une case

 : avance d'une case

 : coulé! Retourne au départ

Pour vérifier les réponses :

$$0 + 10 = 10$$

$$1 + 9 = 10$$

$$2 + 8 = 10$$


$$3 + 7 = 10$$

$$4 + 6 = 10$$

$$5 + 5 = 10$$

 La forêt des 10 

 : rejoue

 : fais avancer un camarade du même nombre que toi

 : recule d'une case

 : avance d'une case

 : coulé! Retourne au départ

Pour vérifier les réponses :

$$0 + 10 = 10$$

$$1 + 9 = 10$$

$$2 + 8 = 10$$

$$3 + 7 = 10$$

$$4 + 6 = 10$$

$$5 + 5 = 10$$