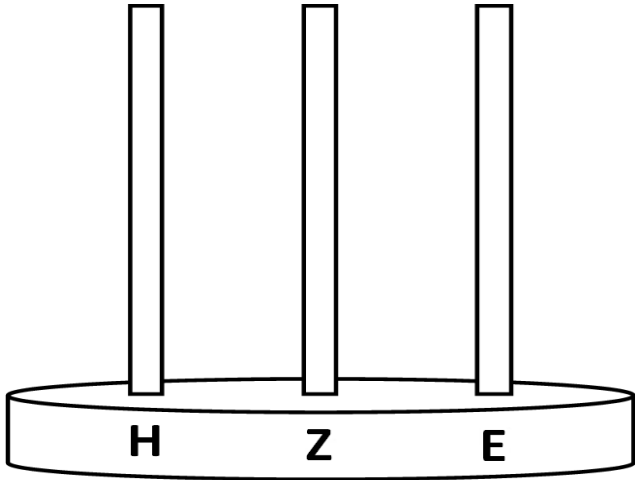
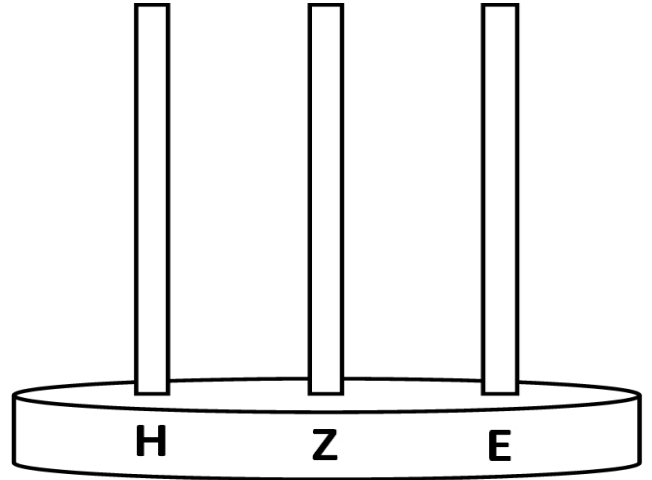


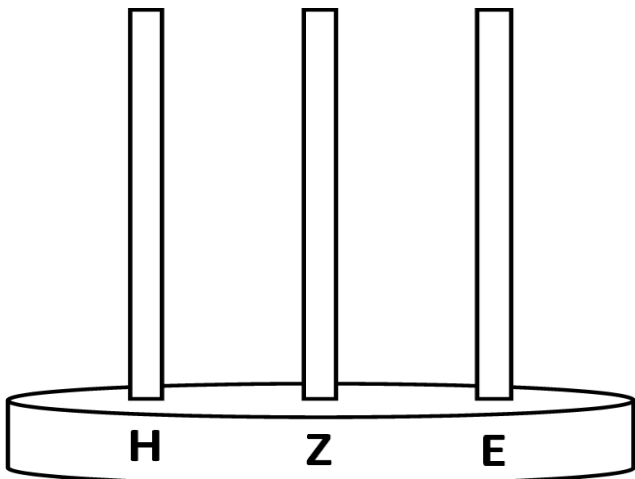
Zeichne die Perlen für
die Zahl 58.



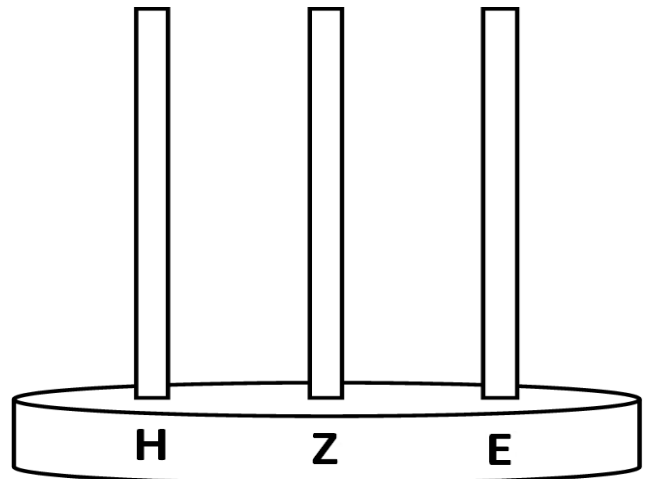
Zeichne die Perlen für
die Zahl 64.



Zeichne die Perlen für
die Zahl 51.

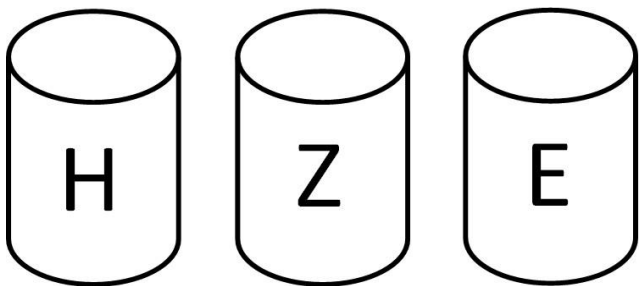


Zeichne die Perlen für
die Zahl 67.

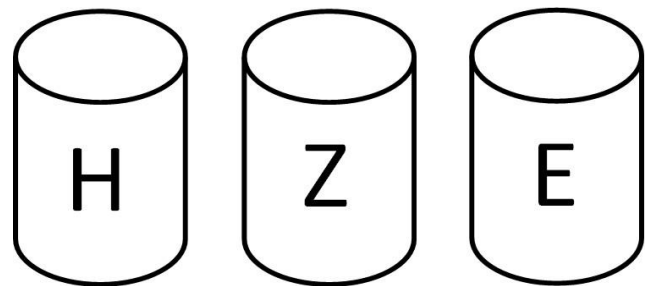


2-sprachig

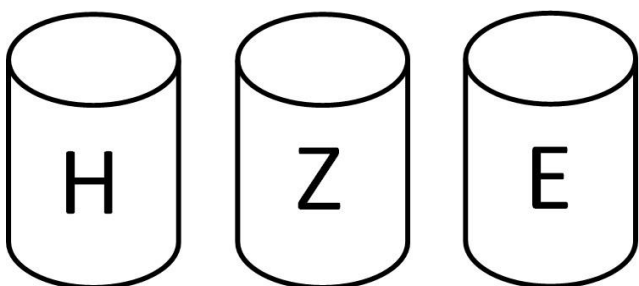
Zeichne die
Strohhalme für die
Zahl 52.



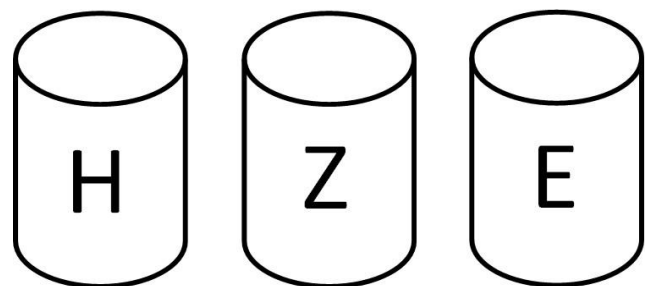
Zeichne die
Strohhalme für die
Zahl 75.



Zeichne die
Strohhalme für die
Zahl 61.

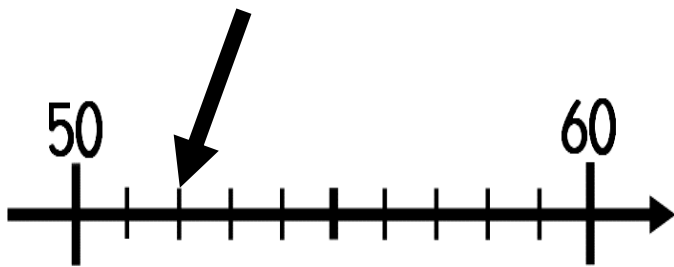


Zeichne die
Strohhalme für die
Zahl 59.

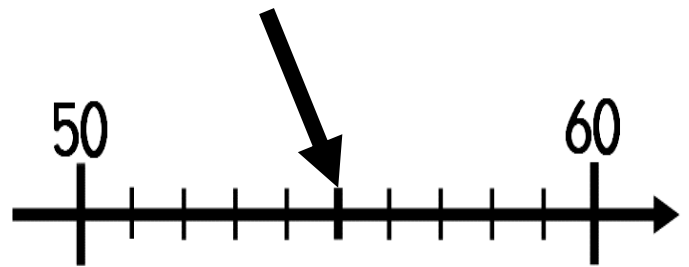


2-sprachig

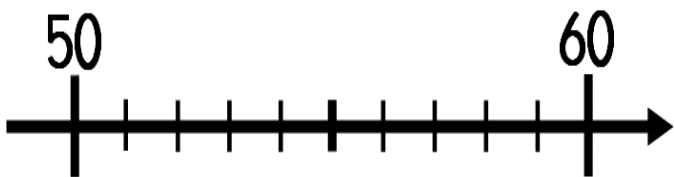
Welche Zahl ist das ? Schreibe.



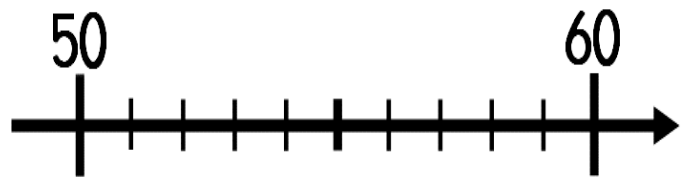
Welche Zahl ist das ? Schreibe.



Schreibe die Zahl 51
an den richtigen
Platz.

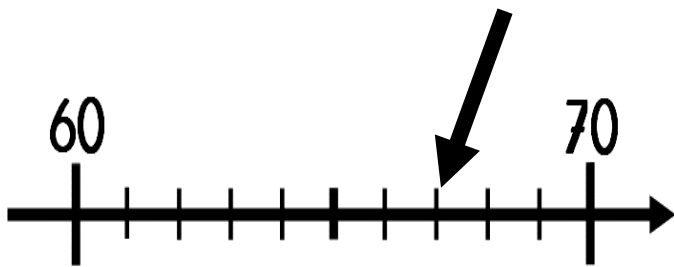


Schreibe die Zahl 56
an den richtigen
Platz.

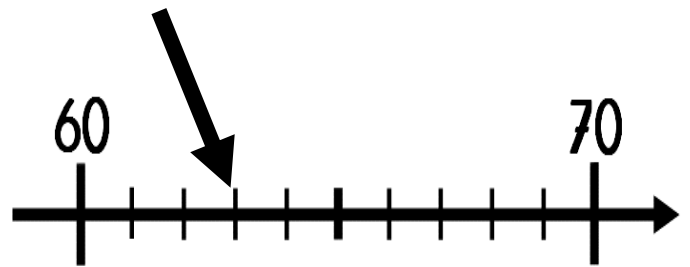


2-sprachig

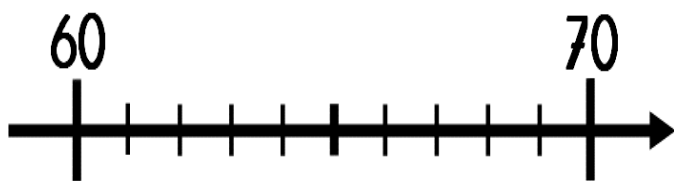
Welche Zahl ist das ? Schreibe.



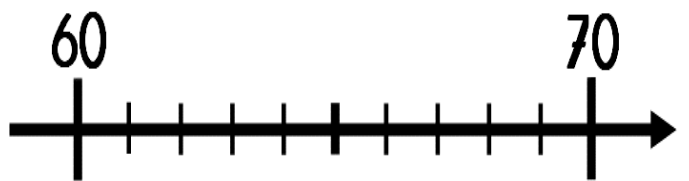
Welche Zahl ist das ? Schreibe.



Schreibe die Zahl 66
an den richtigen
Platz.



Schreibe die Zahl 69
an den richtigen
Platz.



2-sprachig

Wie viel Geld ist das?
Schreibe.

_____ €



Wie viel Geld ist das?
Schreibe.

_____ €



Wie viel Geld ist das?
Schreibe.

_____ €



Wie viel Geld ist das?
Schreibe.


_____ €



2-sprachig


Zeichne die
Geldsumme.

58 €




Zeichne die
Geldsumme.

70 €




Zeichne die
Geldsumme.

60 €



Zeichne die
Geldsumme.

65 €



2-sprachig

Schreibe die Zahl
56 in Worten.

Schreibe die Zahl
61 in Worten.

Schreibe die Zahl
63 in Worten.

Schreibe die Zahl
54 in Worten.



2-sprachig

Schreibe die Zahl
59 in Worten.

Schreibe die Zahl
65 in Worten.

Schreibe die Zahl
74 in Worten.

Schreibe die Zahl
67 in Worten.



2-sprachig

Ordne die Zahlen von der
Kleinsten zur Größten.

49 2 13
60 51

Ordne die Zahlen von der
Kleinsten zur Größten.

18 42 1
27 58

Ordne die Zahlen von der
Kleinsten zur Größten.

62 56 68
52 47

Ordne die Zahlen von der
Kleinsten zur Größten.

24 75 9
19 44



2-sprachig

Schreibe eine Zahl, die kleiner ist und eine Zahl, die größer ist.

| | | |
|--|----|--|
| | 59 | |
|--|----|--|

Schreibe eine Zahl, die kleiner ist und eine Zahl, die größer ist.

| | | |
|--|----|--|
| | 62 | |
|--|----|--|

Schreibe eine Zahl, die kleiner ist und eine Zahl, die größer ist.

| | | |
|--|----|--|
| | 70 | |
|--|----|--|

Schreibe eine Zahl, die kleiner ist und eine Zahl, die größer ist.

| | | |
|--|----|--|
| | 54 | |
|--|----|--|



2-sprachig

Rechne.

$$10 + 10 + 10 + 10 + 5 =$$

Rechne.

$$10 + 10 + 10 + 10 + 10 + 2 =$$

Rechne.

$$10 + 10 + 10 + 10 + 10 + 3 =$$

Rechne.

$$10 + 10 + 10 + 10 + 4 =$$



2-sprachig

Rechne.

$$20 + 30 =$$

Rechne.

$$20 + 20 + 20 =$$

Rechne.

$$40 + 20 =$$

Rechne.

$$50 + 20 =$$



2-sprachig

Rechne.

$$2 + \underline{\quad} = 10$$

$$7 + \underline{\quad} = 10$$

$$9 + \underline{\quad} = 10$$

Rechne.

$$\underline{\quad} + 4 = 10$$

$$\underline{\quad} + 5 = 10$$

$$\underline{\quad} + 8 = 10$$

Rechne.

$$8 + 8 = \underline{\quad}$$

$$3 + 3 = \underline{\quad}$$

$$6 + 6 = \underline{\quad}$$

Rechne.

$$9 + 9 = \underline{\quad}$$

$$5 + 5 = \underline{\quad}$$

$$10 + 10 = \underline{\quad}$$



2-sprachig

Rechne.

$$1 + \underline{\quad} = 10$$

$$3 + \underline{\quad} = 10$$

$$0 + \underline{\quad} = 10$$

Rechne.

$$\underline{\quad} + 10 = 10$$

$$\underline{\quad} + 7 = 10$$

$$\underline{\quad} + 6 = 10$$

Rechne.

$$2 + 2 = \underline{\quad}$$

$$5 + 5 = \underline{\quad}$$

$$7 + 7 = \underline{\quad}$$

Rechne.

$$1 + 1 = \underline{\quad}$$

$$9 + 9 = \underline{\quad}$$

$$0 + 0 = \underline{\quad}$$



2-sprachig