



Exercices sur la monnaie

1/ Barre ce qui est en trop pour faire la somme demandée


	
7 € 50	5 € 50

2/ Dessine le moins de pièces et de billets possibles pour faire la somme demandée :

123€20	174€60
---------------	---------------

Problème.

Voici le bon de commande fait par la directrice de l'école :

Top Livraison Le fournisseur des écoles 					
BON DE COMMANDE					
	Tapis	Ballons	Dossards	Raquettes	Balles
Ecole Jules Ferry	5	20	55	25	50
Ecole Henri Dès	10	15	45	30	60
Ecole René Coty	15	25	220	50	110
Ecole des Crayons	0	8	30	10	30
Ecole Jean de la Fontaine	10	7	75	15	35

1/ Combien a-t-elle commandé de ballons pour l'école René Coty ?

2/ Quelle école recevra 30 balles ?

3/ Quelle école aura le moins de raquettes ?

4/ Quel école recevra le plus de tapis ?

5/ Combien a-t-elle commandé de dossards pour toute la ville ?