

EG 2- Las dreitas perpendicularas



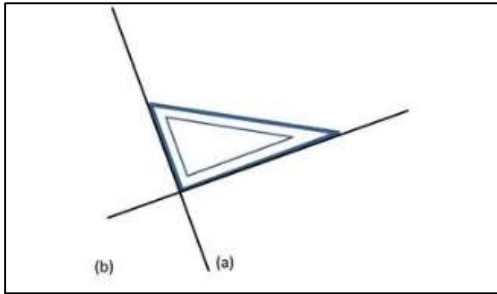
Reteni



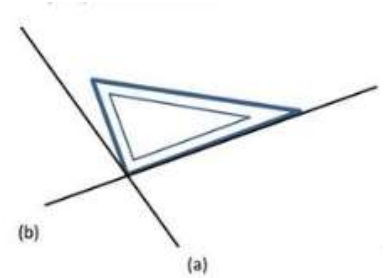
➤ **Doas dreitas son perpendicularas** se se copan en formant un angle dreit. Utilizam l'escaire coma espleit de verificacion.

(a) e (b) son perpendicularas :

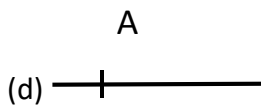
S'escriu : **(a) ⊥ (b)**



(a) e (b) son pas perpendicularas :



➤ **Per traçar 2 dreitas perpendicularas, utilizam la règla e l'escaire :**



① Amb la règla, traça una Dreita. Marca un punt sus la Dreita.



② Plaça l'angle dreit de l'escaire al nivèl del punt. Traça la segonda dreita.

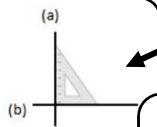


③ Perlonga aquela segonda dreita amb la règla.

Carta mentala

Las dreitas perpendicularas

angle dreit
donc **(a) ⊥ (b)**



Escaire
Per verificar



Traçar :

- 1 - un punt sus una dreita.
- 2- Traça la segonda dreita amb l'escaire.
- 3- Perlonga amb la règla.

Quiz 5/5

Amb l'ajuda de qualqu'un, verifica s'as plan retengut e comprés la ficha-memòria :

- Cossí se copan doas dreitas perpendiculara ?
- Amb quin espleit verifegas se doas dreitas son perpendicularas ?
- Trapa un autre biais d'escriure que la dreita (c) es perpendiculara a la dreita (d).
- Traça 2 dreitas que son pas perpendicularas.
- Traça 2 dreitas que son perpendicularas.