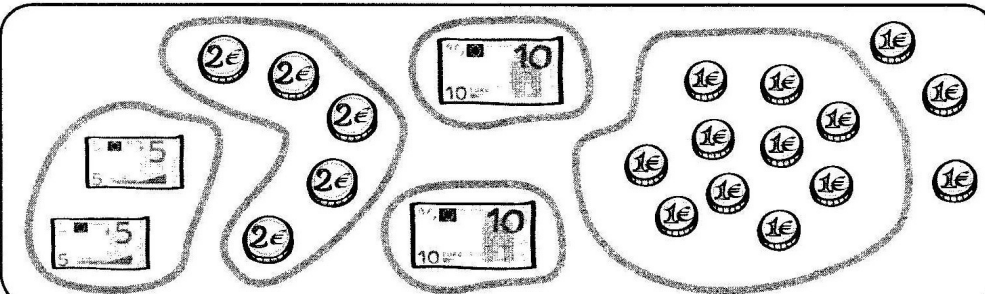


**Nombres et quantités : dizaines, unités et monnaie**

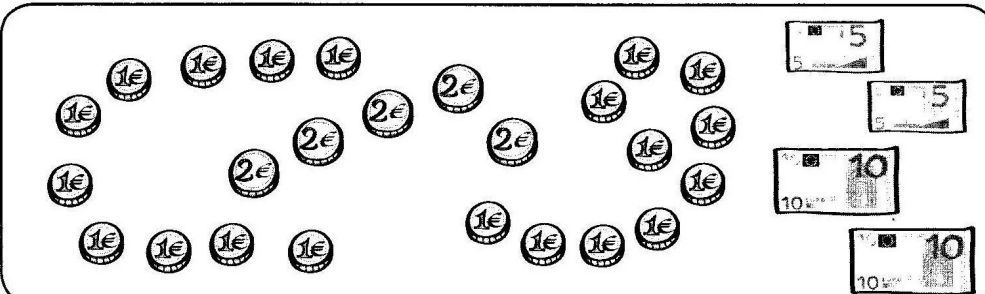
**1 Dessine 10 euros :** \_\_\_\_\_

<ul style="list-style-type: none"> <li>avec des pièces de 1 €.</li> </ul>	<ul style="list-style-type: none"> <li>avec des pièces de 2 €.</li> </ul>	<ul style="list-style-type: none"> <li>avec des billets de 5 €.</li> </ul>
---	---	--


**2 Entoure** les pièces et les billets pour obtenir chaque fois 10 euros, puis **écris** la somme.



53 €



\_\_\_\_\_ €



\_\_\_\_\_ €

**3 Écris** le nombre. \_\_\_\_\_

<ul style="list-style-type: none"> <li>Trois dizaines et huit unités <input style="width: 50px;" type="text"/></li> <li>Cinq dizaines et douze unités <input style="width: 50px;" type="text"/></li> <li>Huit dizaines et dix unités <input style="width: 50px;" type="text"/></li> </ul>	<ul style="list-style-type: none"> <li>Six dizaines et quinze unités <input style="width: 50px;" type="text"/></li> <li>Quatre dizaines et dix-sept unités <input style="width: 50px;" type="text"/></li> <li>Sept dizaines et vingt unités <input style="width: 50px;" type="text"/></li> </ul>
---	--