

Prénom : \_\_\_\_\_ Date : \_\_\_\_\_

1. Complète les égalités.

$9-5= \dots$

$9-4= \dots$

$5-5= \dots$

$7-1= \dots$

$3-2= \dots$

$8-4= \dots$

$9-7= \dots$

$10-7= \dots$

$10-8= \dots$

$6-2= \dots$

$4-0= \dots$

$6-3= \dots$

2. Complète les égalités.

$4+4= \dots$

$4+5= \dots$

$1+4= \dots$

$6+2= \dots$

$2+4= \dots$

$6+3= \dots$

$7+2= \dots$

$3+7= \dots$

$3+3= \dots$

3. Écris en lettres.

$6 = \dots \quad 3 = \dots \quad 11 = \dots$

$15 = \dots \quad 4 = \dots \quad 14 = \dots$

4. Dessine les groupes de 10 et les points isolés. Calcule.




$10 + 10 + 10 + 5 = \dots$

$10 + 10 + 10 + 10 + 2 = \dots$

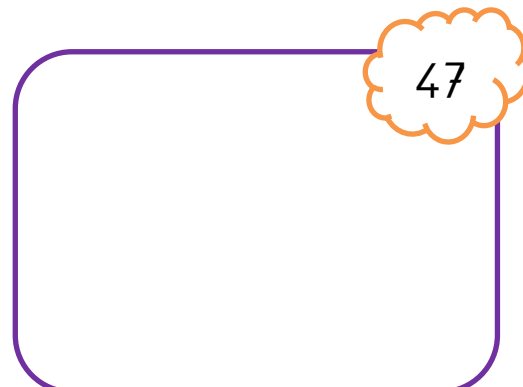

$10 + 10 + 10 + 10 + 10 + 8 = \dots$

$10 + 10 = \dots$

5. Continue la frise.



6. Dessine comme Dédé.



7. Qui a le plus d'argent ? Réponds.



Léa a  €



Thomas a  €



Justine a  €

C'est



qui a le plus d'argent.

8. Réponds.



On a colorié  doigts.