

Prénom :

Evaluation Géographie

Découvrir les lieux où j'habite (partie 1) **

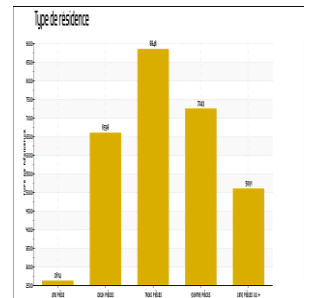
Date :

Compétences évaluées	exercices	A+	A	PA	NA
Se repérer dans l'espace : nommer ou localiser un repère ou un lieu sur une carte.	7.8.10.				
Comprendre un document : l'identifier - extraire des informations pour répondre à une question.	2.5.11.12.				
Pratiquer différents langages : s'approprier le lexique.	1.4.6.9.14.				
Pratiquer différents langages : rédiger-décrire-expliquer.	3.				
Pratiquer différents langages : utiliser des cartes et des photographies de paysages ou de lieux.	2.3.				
Etre capable de restituer la leçon.	1 à 14				

Géo 1 - Comment fait-on de la géographie ?

1) Quel est le travail du géographe ? A quoi s'intéresse-t-il ? Quelles questions se posent-ils ?

2) A partir de quels documents travaille le géographe ?



3) Observe la photo de cette cour de récréation à Mexico et décris-la comme un géographe :



Géo 2 - Se repérer dans l'espace

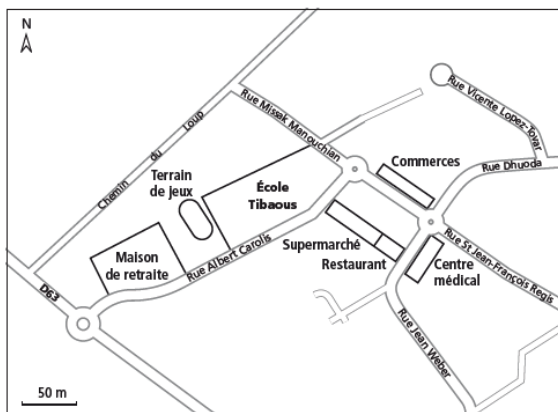
4) Qu'est-ce qu'un planisphère ?

5) Complète en indiquant le numéro du document correspondant

Le plan est le document numéro _____

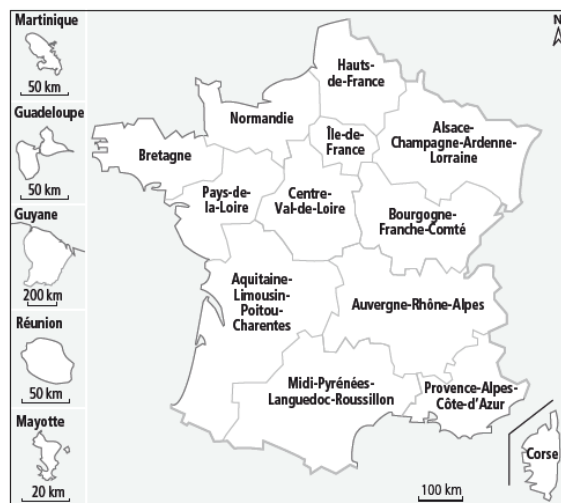
Le planisphère est le document numéro _____

La carte est le document numéro _____



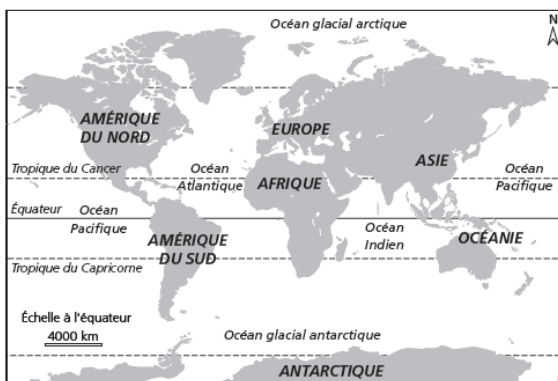
Doc. 1

Plan de quartier de la commune de Tibaous



Doc. 2

Carte de France



Doc. 3

Planisphère



6) Surligne les échelles sur les 3 documents

7) Entoure ta région sur le document 2

8) Complète la rose des vents :

9) Coche la bonne case. Parmi les documents suivants, lesquels te permettent :


- | | | | |
|-------------------------------------|----------------------------------|-----------------------------------|---|
| - de te déplacer dans un quartier | <input type="checkbox"/> le plan | <input type="checkbox"/> la carte | <input type="checkbox"/> le planisphère |
| - de situer ta région en France | <input type="checkbox"/> le plan | <input type="checkbox"/> la carte | <input type="checkbox"/> le planisphère |
| - de situer la France dans le monde | <input type="checkbox"/> le plan | <input type="checkbox"/> la carte | <input type="checkbox"/> le planisphère |

Prénom :

Date :

Géo 3 - L'espace proche de mon école

Observe le plan de ta commune, suis les consignes et réponds aux questions :



10) Entoure ton école en rouge

11) Ton école se situe-t-elle près de la mairie ?

Oui

Non

12) Y-a-t-il des commerces ? Si oui lesquels ? Quel(s) type(s) d'habitation ? Des lieux culturels ou sportifs ? Comment est la végétation ? Y a -t-il des transports en commun ?

Géo4 - Habiter une grande ville

13) Qu'est-ce qui caractérise une grande ville ? Coche vrai ou faux.

	VRAI	FAUX
Il y a beaucoup d'habitants.		
Il y a peu de transports en commun.		
Il y a peu de circulation.		
On peut pratiquer beaucoup d'activités.		
On peut y croiser des touristes.		
Il y a un centre-ville ancien.		
Il y a des quartiers d'affaires.		
On peut voir des animaux sauvages.		
On peut visiter des musées.		
Il y a de grandes avenues et des autoroutes.		
On peut visiter des fermes.		
Il n'y a souvent que des maisons individuelles.		
Il y a de grands magasins.		
Il faut faire des kilomètres pour trouver un hôpital.		
Il y a des grandes écoles et des universités.		

14) Qu'est-ce qu'une métropole ? Donne la définition :
