















4  Retrouve dans le tableau le code de placement pour chacune des formes.





	1	2	3	4	5	6
A						
B						
C						
D						
E						
F						


-  → (_ - _)
-  → (_ - _)
-  → (_ - _)
-  → (_ - _)
-  → (_ - _)
-  → (_ - _)

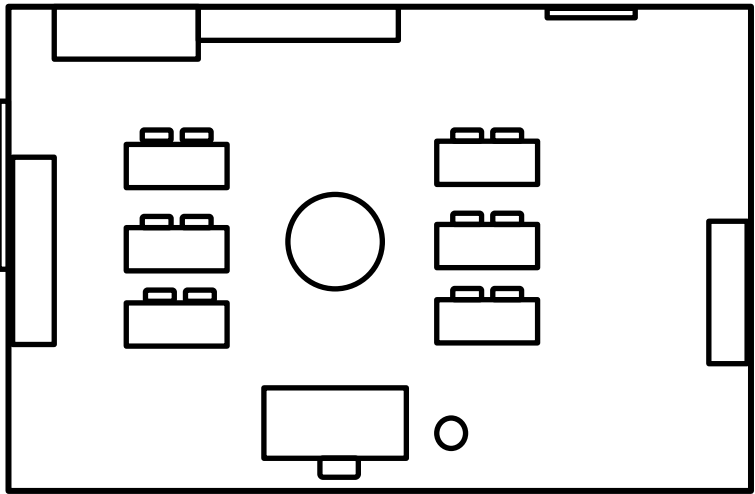



5 Repère-toi sur le dessin et le plan.

- Colorie** - en jaune, le bureau
 - en vert l'armoire
 - en rouge la table du milieu à droite
 - en violet les livres sur l'étagère au fond de la pièce.



- Trace** le chemin de la porte jusqu'à la chaise du bureau en passant devant l'armoire.




Je sais effectuer un déplacement sur quadrillage en suivant un code	
Je sais coder un déplacement sur quadrillage	
Je sais repérer des cases sur un quadrillage	
Je sais me repérer sur un plan	