

1

Comment vivent les êtres vivants ensemble ?

CP
CE1

Ecris ce que tu as trouvé dans la colonne de gauche puis complète le tableau.

QUOI ?	OU ?	VEGETAL (A) ou ANIMAL (A)
.....
.....
.....
.....
.....
.....
.....
.....
.....
.....
.....



Exercice 1 : Complète ce texte avec ces mots

êtres vivants - saisons

Tout autour de nous, il y a de nombreux :
des végétaux et des animaux. Ce que nous observons chez ces êtres
vivants change selon les

Exercice 2 : Colorie les pastilles en vert si l'animal mange des végétaux (plantes, graines, herbes, fruits), en rouge si l'animal mange des animaux et en jaune si l'animal mange des animaux et des végétaux.

- | | | | |
|------------------------------|---------------------------------|-----------------------------|---------------------------------|
| <input type="radio"/> renard | <input type="radio"/> chevreuil | <input type="radio"/> lapin | <input type="radio"/> campagnol |
| <input type="radio"/> taupe | <input type="radio"/> buse | <input type="radio"/> merle | <input type="radio"/> écureuil |



Exercice 3 : Complète ce texte avec les mots suivants.

Carnivores - végétariens - omnivores

Les animaux qui mangent des végétaux sont

Les animaux qui mangent d'autres animaux sont

Les animaux qui mangent à la fois des végétaux et des animaux
sont

Exercice 1 : Complète ce texte avec les mots suivants :

végétarien - omnivores - carnivores - régime alimentaire

Tous les animaux n'ont pas le même

- les mangent d'autres animaux ;
- les mangent des végétaux ;
- les mangent des végétaux et des animaux.

Exercice 2 : Observe ce que mangent ces animaux de la forêt.



Complète comme dans l'exemple :

Chaque flèche (→) signifie «est mangé par.... »

Mûres → Campagnol

Lapin →

Feuille →

Ver de terre →

Campagnol →

Gland →


Escargot →

Herbe →




Exercice 3 : Observe ce dessin et trace des flèches (→)

Chaque flèche signifie « est mangé par ».



Exercice 4 : Quand les êtres vivants sont mangés les uns par les autres, cela forme une chaîne alimentaire. Ecris les 3 chaînes alimentaires illustrées par ce schéma.



..... → → →

..... → → →

..... → → →

Exercice 5 : Complète ce texte avec les mots suivants :

un végétal - une chaîne alimentaire

Les êtres vivants mangés les uns par les autres forment

..... . À la base d'une chaîne alimentaire,

on trouve toujours

Tout autour de nous, il y a de nombreux

.....: des végétaux et des animaux. Ce que nous observons chez ces êtres vivants change selon les saisons.

Tous les animaux n'ont pas le même régime alimentaire :

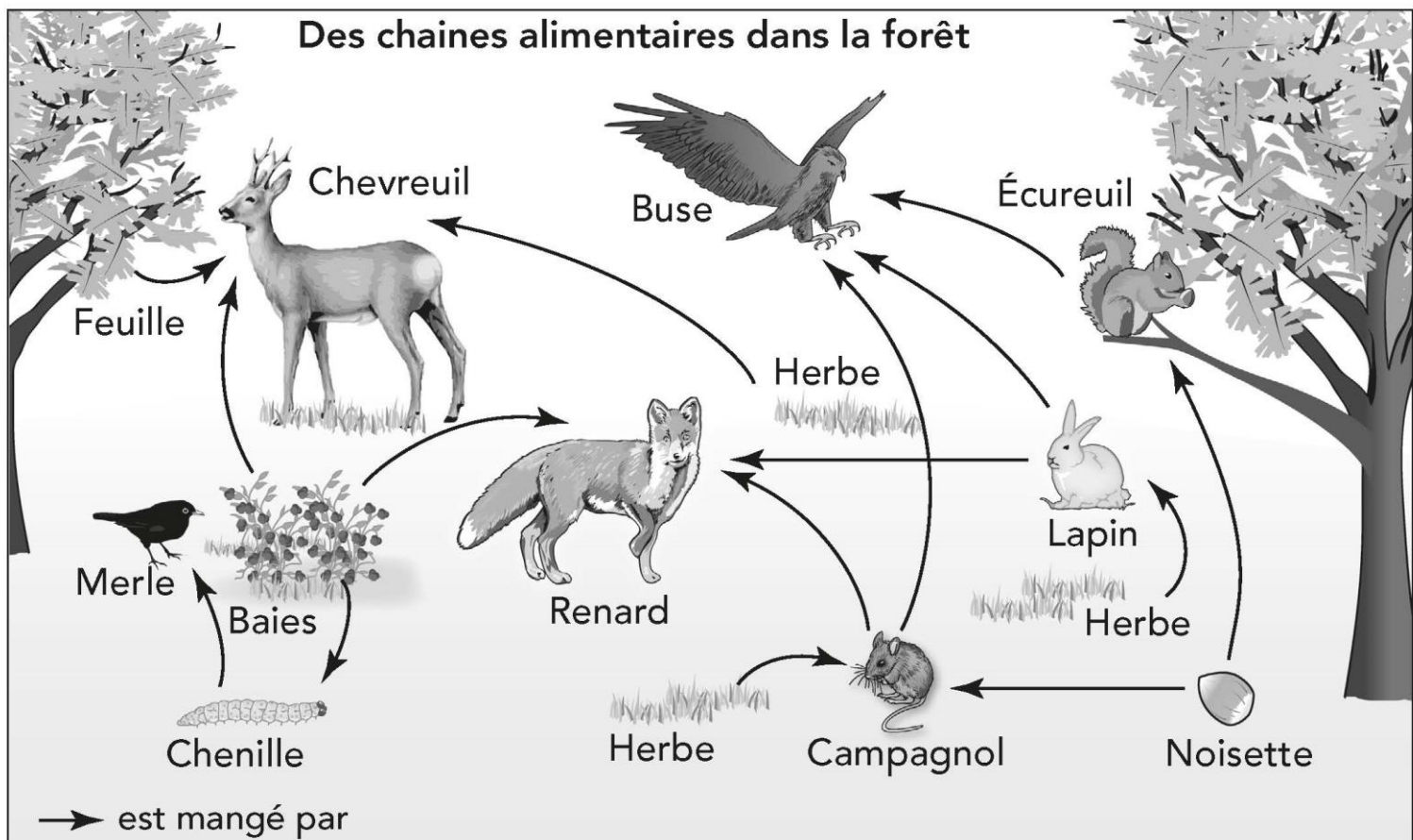
- les mangent d'autres animaux ;

- les mangent des végétaux ;

- les mangent des végétaux et des animaux.

Les êtres vivants mangés les uns les autres forment une

à la base d'une chaîne alimentaire, on trouve toujours un





un renard



un chevreuil



un lapin



un campagnol



une taupe



une buse



un merle



un escargot



un scarabé



un ver de terre



une noisette



de l'herbe



**une feuille
d'arbre**



des mûres



**des baies
(groseilles)**



un écureuil





un renard



un chevreuil



un lapin



un campagnol



une taupe



une buse



un merle



un escargot



un scarabé



un ver de terre



une noisette



de l'herbe



**une feuille
d'arbre**



des mûres



**des baies
(groseilles)**



un écureuil

