


Note : la plus basse -- moyenne -- la plus haute

Mes réussites :	A	ECA	NA	→ points
1a-1b : Je sais vérifier la nature d'une figure en ayant recours aux instruments				/8
2a - 3a : Je sais utiliser les instruments pour tracer des droites perpendiculaires				/4
2b - 3b : Je sais utiliser les instruments pour tracer des droites parallèles				/4
4 : Je sais tracer des droites parallèles et perpendiculaires en suivant un programme de construction				/4

Date : / /

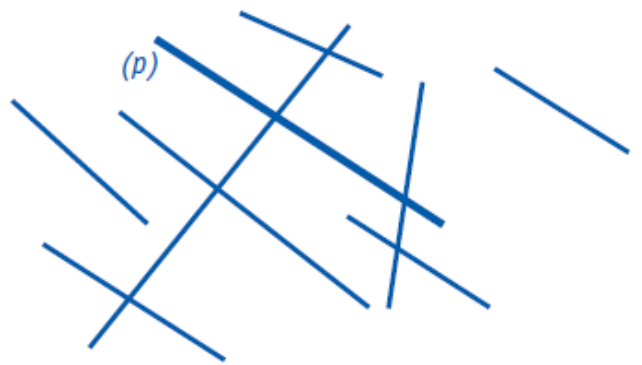
PERPENDICULAIRES

1a - Repasse en rouge toutes les droites perpendiculaires à la droite (d) :



PARALLELES

1b - Repasse en rouge toutes les droites parallèles à la droite (p) :



2a - Trace une droite (f) perpendiculaire à la droite (d) :



2b - Trace une droite (m) parallèle à la droite (n) :

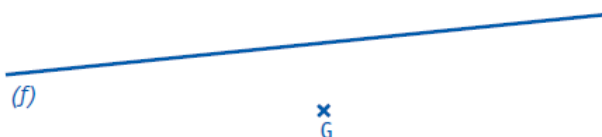


Nom + Prénom :

3a - Trace une droite (g) perpendiculaire à la droite (t) et passant par R :



3b - Trace une droite (d) parallèle à la droite (f) passant par G ::



4 - Trace des droites :

- Trace une droite (h) perpendiculaire à la droite (e) .
- Trace une droite (s) perpendiculaire à la droite (e) et passant par J .
- Trace une droite (b) parallèle à la droite (e) et passant par J .
- Nomme P le point d'intersection des droites (b) et (h) :

