

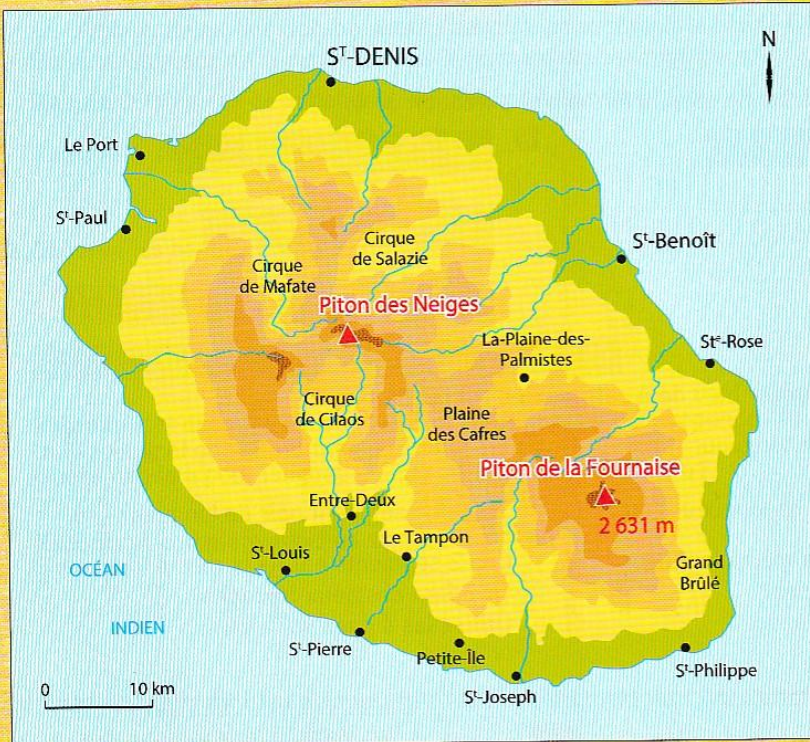
64

Mobilise tes connaissances ! (3)

COMPÉTENCES :
Prélever des informations à partir de supports variés.
Mobiliser ses connaissances pour résoudre des problèmes.

La Réunion

La Réunion est une île qui se trouve dans l'océan Indien dans l'hémisphère Sud. Ce département et région d'outre-mer français est situé à environ 700 km de Madagascar.



Le piton des Neiges est deux fois plus élevé que le Grand Colombier, situé dans le Jura, qui culmine à 1 535 m.


1. Quelle est l'altitude du piton des Neiges ?
Est-ce le point culminant de la Réunion ?



2. Observe le schéma suivant qui représente le vol Paris-Saint-Denis avec deux escales. L'une est à Dubaï, l'autre sur l'île Maurice. Calcule la distance entre Dubaï et l'île Maurice.



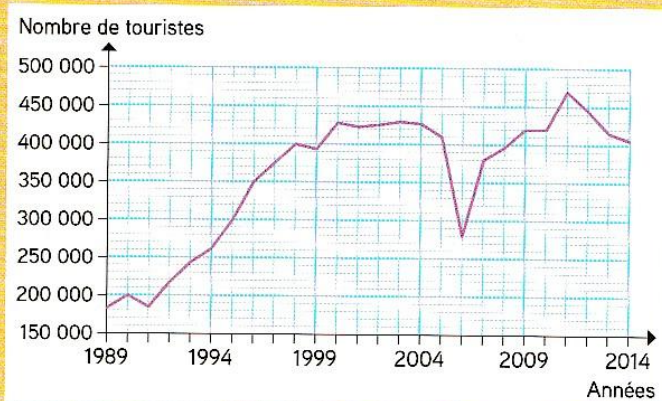
Voici le drapeau de La Réunion.



3. Quelle fraction du drapeau représente la partie rouge ?



Ce graphique représente l'évolution du nombre de touristes qui ont visité La Réunion depuis 1989.



4. Combien de touristes ont visité La Réunion en 1998 ?
En quelle année a eu lieu l'épidémie de chikungunya qui a provoqué la chute brutale du tourisme ?

5. Représente l'île de La Réunion par un rectangle de 3 carreaux de largeur et 4 carreaux de hauteur. Colorie la partie occupée par le volcan.



Le piton de la Fournaise est un volcan très actif, avec au moins une éruption par an. Il couvre un quart de la superficie de l'île.



Paradise Island

- 4 dL de jus de papaye
- 40 cL de jus de mangue
- 1 dL de jus de citron vert
- 5 cL de miel



6. La recette du cocktail « Paradise Island » permet-elle d'obtenir plus ou moins de 1 L de cocktail ?
Avec la recette ci-contre, combien de coupes de 15 cL peut-on remplir ?

