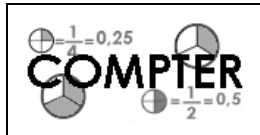


Prénom : .....

Date : .....



# NUMÉRATION

Les fractions (05)

1./ Complète en chiffres ou en lettres les nombres suivants :

trois quarts

⇔

$\frac{3}{4}$

$\frac{5}{8}$

⇔

cinq huitièmes

.....

⇔

$\frac{8}{2}$

.....

⇔

six quarts

.....

⇔

$\frac{9}{6}$

.....

⇔

trente-cinq dixièmes

.....

⇔

$\frac{7}{10}$

.....

⇔

trente cinquantièmes

.....

⇔

$\frac{25}{3}$

.....

⇔

soixante-cinq centièmes

.....

⇔

$\frac{75}{100}$

.....

⇔

soixante cinq-centièmes

.....

⇔

$\frac{54}{2}$

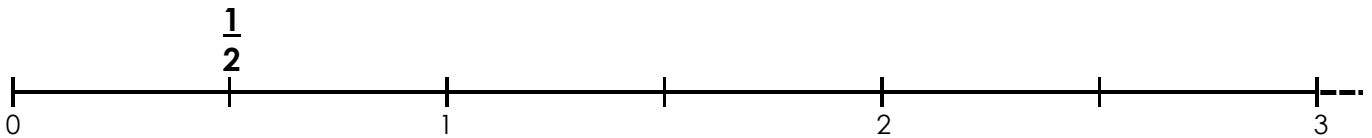
.....

⇔


dix tiers

2./ Place sur les axes gradués les nombres donnés :

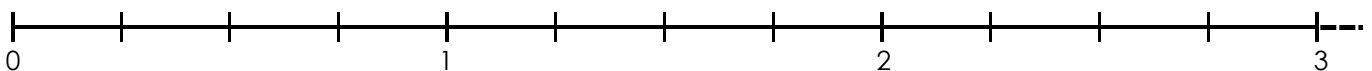
•  $\frac{1}{2}$  ;  $\frac{3}{2}$  ;  $\frac{4}{2}$  ;  $\frac{5}{2}$



•  $\frac{2}{3}$  ;  $\frac{4}{3}$  ;  $\frac{6}{3}$  ;  $\frac{8}{3}$



•  $\frac{1}{4}$  ;  $\frac{3}{4}$  ;  $\frac{7}{4}$  ;  $\frac{10}{4}$



•  $\frac{3}{2}$  ;  $\frac{5}{4}$  ;  $\frac{14}{8}$  ;  $\frac{25}{10}$

