

Prénom :

EVALUATION 1

RÉSOLUTION DE PROBLÈMES


Compétences évaluées :

- Connaître les étapes pour résoudre un problème mathématique
- Différencier un problème additif d'un problème soustractif
- Résoudre un problème additif.
- Résoudre un problème soustractif

- A - B - C - D
- A - B - C - D
- A - B - C - D
- A - B - C - D


Exercice 1 : Numérote les étapes dans l'ordre pour résoudre un problème mathématique.

J'écris la réponse
→ J'utilise les mots de la question
→ J'utilise le résultat du calcul



Rémy a 19 cartes

Je lis l'énoncé et la question
Chez lui, Rémy a 12 cartes Star Wars. Son frère lui en donne 7 autres.




Combien Rémy a-t-il de cartes ?

Je me fais une représentation mentale du problème




Je fais le calcul



	d	u
1	2	
+	7	

1	9	

Je fais un schéma
J'utilise le matériel de numération



Exercice 2 : Colorie en bleu les problèmes additifs (+) et en jaune les problèmes soustractifs (-).

Rodolphe a 223 billes, il en gagne 34 à la récréation.
Combien Rodolphe a-t-il de billes ?

Maman a un collier avec 348 perles. En le cassant elle perd 123.
Combien de perles lui reste-t-il sur le collier ?

Sur un pommier il y a 247 pommes. Le jardinier en cueille 131.
Combien de pommes reste-t-il sur le pommier ?

Au cinéma il y a 135 filles et 82 garçons.
Combien y a-t-il de personnes au cinéma ?

EVALUATION 1

RÉSOLUTION DE PROBLÈMES

Compétences évaluées :

- Connaître les étapes pour résoudre un problème mathématique
- Différencier un problème additif d'un problème soustractif
- Résoudre un problème additif.
- Résoudre un problème soustractif

A - B - C - D


A - B - C - D

A - B - C - D

A - B - C - D

Exercice 1 : Indique les étapes dans l'ordre pour résoudre un problème mathématique.

1)	
2)	
3)	
4)	
5)	



Exercice 2 : Colorie en bleu les problèmes additifs (+) et en jaune les problèmes soustractifs (-).

Rodolphe a 3 223 billes, il en gagne 234 à la récréation.
Combien Rodolphe a t-il de billes ?

Maman a un collier avec 848 perles. En le cassant elle perd 223.
Combien de perles lui reste t-il sur le collier ?

Sur un pommier il y a 1 247 pommes. Le jardinier en cueille 731.
Combien de pommes reste-t-il sur le pommier ?

Au cinéma il y 635 filles et 582 garçons.
Combien y a t-il de personnes au cinéma ?

