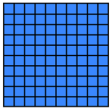




En lettres :

Tableau de numération

c	d	u
		

Valeur des nombres:

- _____ centaine(s)
- _____ dizaine(s)
- _____ unité(s)

Décomposition :

_____ + _____ + _____

- 1 :

+ 1 :

- 10 :

+ 10 :

- 100 :

+ 100:

En pièces et billets:

