



Ton prénom : \_\_\_\_\_

1 2 **Ecris les réponses (calcul mental)**

●  ■  ★  ▲  ♥  ☾

2 2 **Ecris les nombres du plus petit au plus grand.**

3 9 5 2 →

3 **Colorie la fleur qui a le plus de pétales.**






4 **A la fin de chaque jeu, y a-t-il exactement 10 points dans la boîte ?**


**Entoure la bonne réponse**

Jeu 1	3	3	2	3	→	oui	non		
Jeu 2	1	3	2	1	2	→	oui	non	
Jeu 3	3	1	1	2	2	1	→	oui	non





5 2 **Ecris ce que doit choisir le dernier joueur pour obtenir 10 points.**


Jeu 4	3	3	2	.....		
Jeu 5	1	3	2	1	.....	



6  **Ecris les résultats.**    



 **Entoure les doubles.**

5 + 4 = \_\_\_ | 2 + 3 = \_\_\_ | 5 + 5 = \_\_\_ | 3 + 4 = \_\_\_ | 6 + 1 = \_\_\_  
 4 + 4 = \_\_\_ | 2 + 7 = \_\_\_ | 4 + 5 = \_\_\_ | 2 + 2 = \_\_\_ | 3 + 3 = \_\_\_

7  **Lili a 5 images. Théo en a le double.**   

 **Dessine** les images de Léa, les images de Nino et **Complète** l'addition et **répond** à la question.





 

**Combien Théo a-t-il d'images en tout ?**


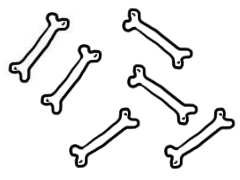
\_\_\_ + \_\_\_ = \_\_\_\_\_





→ Théo a \_\_\_ images.

8  Moustache a trouvé 6 os.   



**Combien doit-il encore en trouver pour en avoir 10 ?**


→ Moustache doit trouver \_\_\_ os

9  Jules veut acheter un casque audio qui coûte 10 €.   

**Entoure** ce qu'il doit donner pour payer ce casque.

  **10 €**



Je sais Calculer mentalement des petites additions	1	
Je sais ranger les nombres jusqu'à 10, et comparer des quantités	2, 3	
Je sais calculer des compléments à 10	4, 5, 8	
Je sais effectuer des petites additions en lignes, je sais ce qu'est un double.	6, 7	
Je sais résoudre des problèmes relatifs à l'utilisation de la monnaie	9	