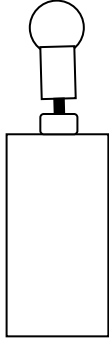

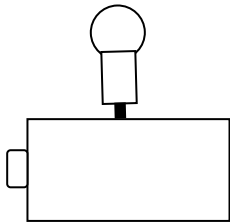
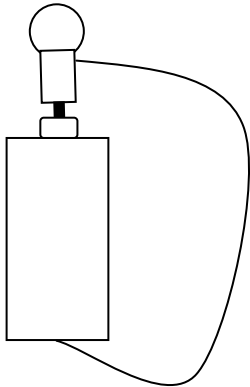


Fiche 5 : Une pile ronde LR 6 (AA), pas de fil, 1 fil, 2 fils

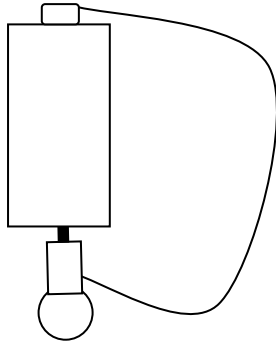
Savoir lire un schéma. Savoir repérer les contacts d'une ampoule et d'une pile.

Réalise les montages suivants et réponds aux questions.

Prénom :

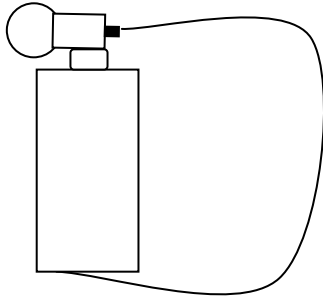
<p>1</p> 	<p>L'ampoule brille-t-elle ?</p>
<p>2</p> 	<p>L'ampoule brille-t-elle ?</p>
<p>3</p> 	<p>L'ampoule brille-t-elle ?</p>
<p>4</p> 	<p>L'ampoule brille-t-elle ?</p>

5



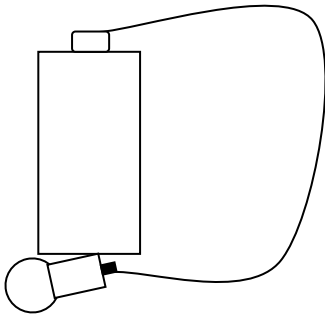
L'ampoule brille-t-elle ?

6



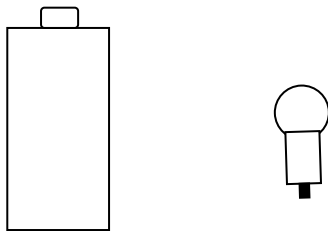
L'ampoule brille-t-elle ?

7



L'ampoule brille-t-elle ?

8



Utilise deux fils pour fermer le circuit

Quelles sont les parties de contact de la pile ronde ? de l'ampoule ? (mets des points rouges)

