

Maths en autonomie


PRÉNOM :

Prénom :


Date :

Labynombres

Je compte de 2 en 2.



Aide le poisson à sortir du labyrinthe en comptant de 2 en 2.

	5	1	7	24	26	22	36	48	↑
Départ →	2	4	8	12	14	56	24	52	54
1	7	6	3	14	26	45	22	50	49
4	9	8	6	16	28	28	47	48	46
1	16	10	11	12	24	26	30	41	44
8	18	12	14	16	18	20	22	23	42
6	20	21	15	17	19	26	24	25	40
4	22	24	27	28	40	30	26	36	38
7	24	16	28	30	38	42	28	24	36
8	10	12	14	16	20	28	30	32	34



Colorie en bleu quand le total fait 7

Colorie en jaune quand le total fait 9

Colorie en vert quand le total fait 11

5+5	1+2	9+9	1+8	7+2	3+6	4+4	2+2	5+1
6+4	1+5	2+7	6+3	4+5	9+0	6+3	9+7	9+8
7+3	8+1	5+4	9+2	3+8	6+5	2+7	4+5	2+1
8+2			11		8+3			3+3
9+1			5+6		2+9			4+2
4+6	4+5	3+6	7+4	9+2	4+7	8+1	6+3	7+9
3+7	0+9		7+2	3+6	5+4		5+4	8+9
2+8	5+4	7+2				1+8	9+0	8+8
1+9	6+1	8+1	4+5	2+7	7+2	4+5	5+2	7+8
10	6+3	9-2	1+8	6+3	9+0	7+0	3+6	8+5
4+4	2+7	1+8	1+6	4+3	6+1	6+3	0+9	9+4
3+5	5+4	0+9	5+2	3+4	8-1	1+8	7+2	5+3
	8+1	3+4	0+7	6+1	5+2	2+5	4+5	
	2+6	8-1	2+5	1+6	4+3	9-2	6+2	
1+7	5+7	6+6		4+9		7+5	6+7	7+1
4+8	3+9			5+8			9+3	8+4

2 Compte de 1 en 1 et complète les cases.

37														
49														
61														

3 Calcule. Attention : il y a des additions et des soustractions !

$4 + 6 = _$

$9 - 1 = _$

$6 - 6 = _$

$6 + 5 = _$

$6 - 2 = _$

$8 + 8 = _$

$7 + 7 = _$

$4 - 1 = _$

$5 - 4 = _$

$5 + 5 = _$

$8 - 5 = _$

$3 + 7 = _$

4 Range les nombres du plus petit au plus grand.

23 - 25 - 29 - 35 - 38 - 33 - 30 - 20



5 Range les nombres du plus grand au plus petit.


28 - 23 - 27 - 45 - 48 - 43 - 47 - 20



Comment se rend-t-on de la porte d'entrée
à la cheminée ?

Top chrono !

02:45




Prénom :


Date :

Labynombres

Je compte de 5 en 5.



Aide la fourmi à sortir du labyrinthe en comptant de 5 en 5.

15	5	29	35	24	36	92	104	105	55
10	16	25	30	35	34	92	99	94	54
25	20	20	15	40	47	98	95	100	→
	24	15	44	45	40	87	90	48	35
Départ →	5	10	29	50	53	86	85	84	85
5	25	15	45	55	59	74	80	84	42
14	30	25	15	60	65	70	75	25	40
14	35	35	20	64	69	75	78	36	38
25	40	41	56	70	68	72	78	24	36
30	45	55	62	85	74	98	71	52	22



Colorie en vert quand le total fait 10

Colorie en jaune quand le total fait 11

Colorie en rouge quand le total fait 12

1+1	3+3	8+1	7+2	9+4	3+1	5+9	7+1	2+3	18
2+2	4+1	9+5	4+4	5+3	13	3+2	24	7+7	4+1
8+6	6+7	7+1	2+6	3+6	4+5	8+7	5+1	28	9+6
5+4	20	2+2	4+3	19	17	9+3	23	3+3	29
2+5	4+2	7+8	8+5	3+4	7+5	4+8	5+7	22	2+2
9+8	3+7	33	2+4	31	6+6	3+9	8+4	3+3	7+6
5+5	9+1	2+8	8+1	8+4	9+3	12	7+5	6+6	4+4
7+3	6+4	1+9	5+4	5+7	4+8	3+9	8+4	12	27
8+2	10	3+7	16	3+8	2+9	5+6	4+7	8+3	3+6
4+6	5+5	9+1	6+1	7+4	6+5	8+9	3+5	9+2	21
6+8	5+5	5+3	4+9	8+3	11	7+2	5+8	7+4	36
2+6	6+4	9+7	6+9	4+7	9+2	5+6	6+5	8+3	9+9
14	7+3	32	2+7	6+5	5+2	6+1	4+7	2+9	5+1
6+3	8+2	6+2	35	2+9	9+5	●	7+4	5+6	34
26	1+9	30	8+8	7+4	15	7+9	8+3	9+2	25

Image mystère

Je comprends le sens et je sais calculer de petites soustractions.


5-3	10-7	4-3	3-1	5-4	9-1	10-9	8-5	4-1	2-1
8-5	4-2	6-4	8-7	8-1	10-2	6-4	8-7	10-7	4-3
10-7	4-3	7-3	9-3	7-2	9-5	7-3	9-3	5-4	9-6
4-3	8-7	7-2	9-3	10-4	7-1	9-4	6-1	3-2	4-2
8-5	4-2	8-3	7-2	9-3	7-2	5-1	9-5	6-4	8-7
8-6	9-4	6-1	10-4	7-1	9-4	6-1	9-4	6-1	9-8
6-4	8-7	7-2	9-3	7-2	9-3	7-2	9-5	4-1	6-4
4-2	4-1	9-3	8-4	8-3	7-2	9-3	7-2	9-7	4-3
8-7	4-2	3-1	5-4	9-4	6-1	8-5	4-2	6-4	8-7
4-3	8-7	10-7	7-2	9-3	7-2	9-5	4-3	8-7	10-7
8-6	9-3	7-5	9-7	8-7	5-4	8-6	9-8	7-4	6-3

1 ou 2 ou 3: BLANC





4 ou 5 ou 6: ROUGE

7 ou 8: VERT





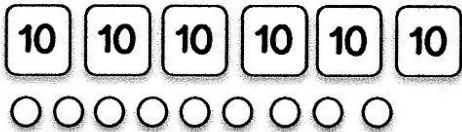




Plouf ! Par ici la sortie !




2 Combien de perles ont Girobot et Robotine ?



3 Colorie les cartes et les perles qu'il faut choisir pour obtenir le nombre de Robotine



4 Complète.




..... cartes de 10.
..... cartes de 1.




..... cartes de 10.
..... cartes de 1.



..... cartes de 10.
..... cartes de 1.



..... cartes de 10.
..... carte de 1.



..... cartes de 10.
..... cartes de 1.



..... carte de 10.
..... cartes de 1.

Prénom :


Date :

Labynombres

Je compte de 6 en 6.

Aide l'éléphant à sortir du labyrinthe en comptant de 6 en 6.



24	5	29	35	24	36	92	75	25	95
18	16	25	40	45	60	66	72	77	74
24	30	36	42	48	54	98	78	85	45
25	24	35	43	47	53	87	84	95	99
15	18	10	29	18	45	86	90	96	➔
5	12	15	45	55	51	74	91	97	98
Départ ➔	6	11	17	47	57	38	24	25	40
	9	35	20	64	14	75	56	36	38
7	12	15	56	70	52	72	79	24	36
21	34	47	51	68	77	98	71	45	88



Calcule. Attention : il y a des additions et des soustractions !

$5 + 6 = \dots$

$8 - 2 = \dots$

$3 - 1 = \dots$

$3 + 5 = \dots$

$9 - 3 = \dots$

$3 + 1 = \dots$

$4 + 4 = \dots$

$6 - 5 = \dots$

$7 - 5 = \dots$

$3 + 3 = \dots$

$5 - 5 = \dots$

$7 + 5 = \dots$



Range les nombres du plus petit au plus grand.

12 - 19 - 32 - 48 - 27 - 7



7-



Range les nombres du plus grand au plus petit.

36 - 23 - 4 - 12 - 49 - 9



Image mystère

Je comprends le sens et je sais calculer de petites soustractions.

8-6	9-3	7-5	9-7	8-7	5-4	8-6	9-8	7-4	6-3
3-1	5-4	9-1	10-9	8-1	10-2	7-5	9-7	8-7	10-8
4-2	6-4	8-7	7-1	8-3	6-1	8-4	5-3	10-7	4-3
6-4	2-1	10-5	8-4	● 6-2	● 7-2	9-3	10-4	5-4	9-6
5-3	3-1	8-2	9-3	7-2	8-2	8-3	9-3	3-2	4-2
6-5	9-3	10-5	6-1	8-4	10-4	9-4	7-1	8-2	6-4
10-7	4-3	8-3	7-2	9-3	7-2	9-5	8-4	6-4	8-7
4-3	8-7	10-7	10-4	7-1	9-4	6-1	10-8	5-4	10-9
8-5	4-2	6-4	8-7	9-5	8-3	5-3	10-7	4-3	3-1
8-6	9-8	7-4	8-4	10-4	10-5	9-4	4-2	6-4	8-7
5-3	10-7	4-3	3-1	5-4	9-1	10-9	8-5	4-1	2-1

1 ou 2 ou 3: BLANC

4 ou 5 ou 6: JAUNE

7 ou 8: ROUGE

2 Compte de 1 en 1 et complète les cases.

24															
	12														
38															

3 Calcule. Attention : il y a des additions et des soustractions !



$14 + 2 = _$

$10 - 1 = _$

$10 - 6 = _$

$12 + 5 = _$

$9 - 2 = _$

$9 + 3 = _$

$10 + 7 = _$

$14 - 1 = _$



$10 - 4 = _$

$10 + 5 = _$



$18 - 2 = _$

$10 + 9 = _$

4 Range les nombres du plus petit au plus grand.

	$47 - 74 - 7 - 67 - 37 - 17$	
-------------------------------------------------------------------------------------	------------------------------	---------------------------------------------------------------------------------------

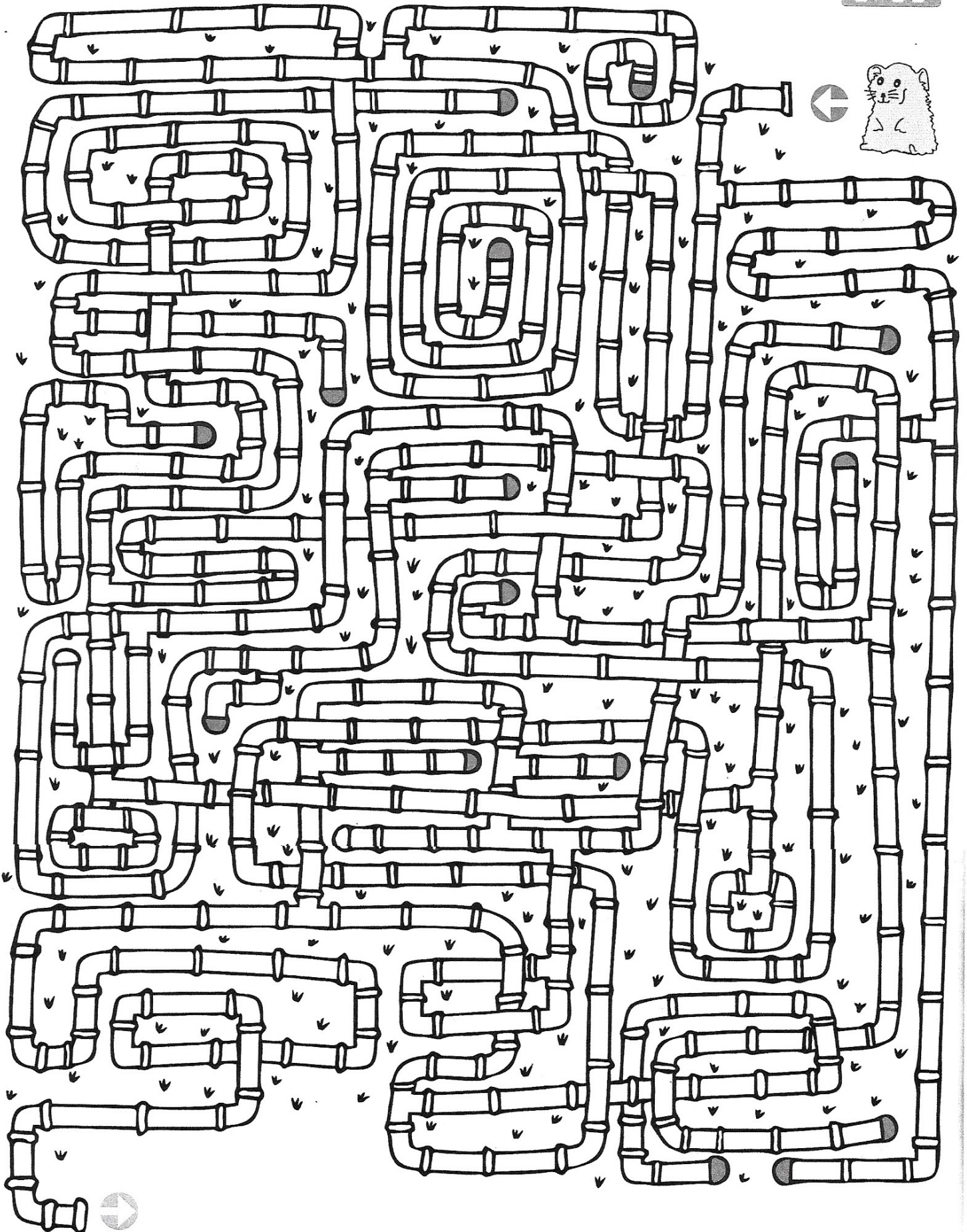
5 Range les nombres du plus grand au plus petit.

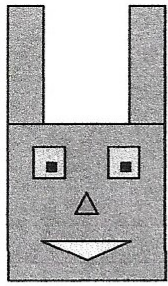
	$26 - 62 - 2 - 6 - 56 - 36 - 60$	
-------------------------------------------------------------------------------------	----------------------------------	---------------------------------------------------------------------------------------

Aide ce hamster à sortir de cette canalisation !

Top chrono !

01:50






Je vois des carrés!

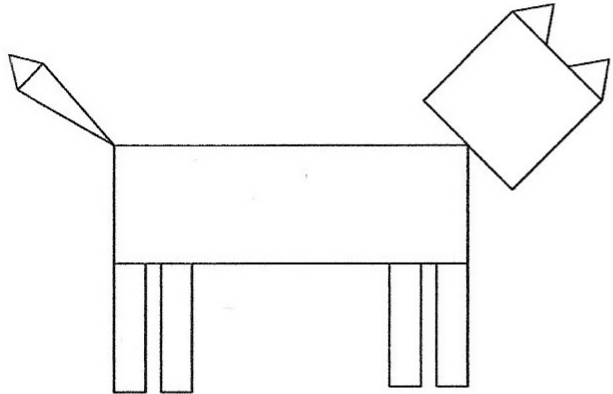
Non, je vois des rectangles.

Moi, je vois deux triangles!




→ Qui a raison ?

1 Colorie les triangles en vert, les carrés en rouge et les rectangles en bleu.

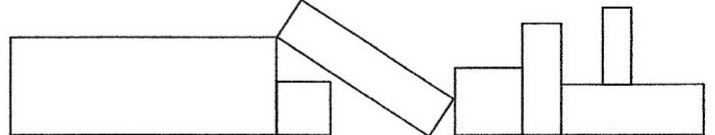


2 Compte les triangles, les carrés et les rectangles.



3 Observe le dessin, puis complète le tableau en t'aidant des étiquettes.

carré triangle rectangle



Nombre	5	2	0

Je révisé

Reproduis.

