



Mémo 1 : Cahier des nombres

page du 1



Mémo 1 : Cahier des nombres

page du 2



Mémo 1 : Cahier des nombres

page du 3



Mémo 1 : Cahier des nombres

page du 4



Mémo 1 : Cahier des nombres

page du 5



Mémo 1 : Cahier des nombres

page du 6



Mémo 1 : Cahier des nombres

page du 7



Mémo 1 : Cahier des nombres

page du 8



Mémo 1 : Cahier des nombres

page du 9




page du 10



Mémo 2 : Comparer

inférieur à

supérieur à



Plus petit que

Plus grand que

La **pointe** du monstre
pique le petit nombre.

$7 < 10$ car 7  10

$8 > 2$ car 8  2




C'est le signe +



8 ballons
de foot

+



6 ballons
de basket

=



14 ballons
en tout

$$8 + 6 = 14$$

8 plus 6 égal 14



Mémo 4 : Les formes géométriques

Un
rectangle




... côtés
... sommets

Un carré




... côtés
égaux
... sommets

Un triangle



... côtés
... sommets

Un
cercle



Un quadrilatère = figure qui a 4 côtés.

Un polygone = figure qui a tous ses côtés
droits (3 ou +)

