







1-Une entreprise de maçonnerie a mis 28 heures pour monter 30 cm du mur d'enceinte d'une propriété. Combien d'heures au total aura-t-elle effectuées pour achever ce mur d'enceinte d'1,20 m de hauteur ?

Situation de départ :	→			
Situation d'arrivée :	→			




Réponse : _____

2-Agathe a acheté 4 pains aux raisins à la boulangerie. Elle a payé 4,80€. Clément veut acheter 12 pains aux raisins pour ses coéquipiers de l'équipe de football. Combien paiera-t-il ?

Situation de départ :	→			
Situation d'arrivée :	→			




Réponse : _____

3-Pour confectionner des tartes, un pâtissier achète 16kg de framboises. Il paie à son fournisseur 24€. Un deuxième pâtissier n'en achète que 4kg ? Combien le deuxième pâtissier paiera-t-il ?

Situation de départ :	→			
Situation d'arrivée :	→			

Réponse : _____

4-Martin et Maël ont acheté du comté pendant leurs vacances aux sports d'hiver. Martin a acheté un morceau de 2kg. Il a payé 21,20€ à la fruitière. Maël a acheté un morceau de 3,5kg. Combien l'a-t-il payé ?

Situation de départ :	→			
Situation d'arrivée :	→			

Réponse : _____