


Ces barbares étaient-ils vraiment barbares ?



Les Huns

Les Huns sont comme cloués sur leurs chevaux, ils boivent à cheval et dorment à cheval, en se baissant sur le cou de la bête. Aucun d'eux ne cultive la terre, ils errent de tous côtés, semblant toujours fuir avec leurs chariots. Ils ont le corps trapu, les membres robustes, la nuque épaisse ; leur carrure les rend effrayants. Les Huns ne cuisent ni n'assaisonnent ce qu'ils mangent ; ils ne se nourrissent que de racines sauvages ou de la chair crue du premier animal venu, qu'ils réchauffent quelque temps sur le dos de leur cheval, entre leurs cuisses.

Au 5ème siècle, un Romain décrit les Huns

Une description des barbares faite par un Romain

Ils ont les membres trapus et vigoureux et une nuque puissante mais ils sont tellement difformes et mal faits qu'on pourrait les prendre pour des bêtes à deux pattes. Leur seule nourriture se compose de plantes sauvages et de chair d'animaux de toutes sortes qu'ils réchauffent entre leurs cuisses et sur le dos de leurs chevaux. Ils sont vêtus de lin et de peaux de rats.

Une lettre d'évêque à un autre évêque parle des barbares

Avec quelle soudaineté la mort a pesé sur le monde entier ! Combien la violence de la guerre a frappé les peuples ! Ce qui n'a pas été dompté par la force l'a été par la faim ! La mère a succombé misérablement avec ses enfants et son époux. Dans les villes, les domaines, les campagnes, ça et là le long des routes, c'est la mort, la souffrance, la destruction, l'incendie, le deuil.

Dessine le Barbare après avoir lu les 3 textes.

Complète ce texte : « Les Romains disent que ces peuples sont barbares car physiquement et dans leur comportement, ils »

Ces barbares étaient-ils vraiment barbares ?



Un « Barbare », mosaïque, Carthage (Tunisie), VI^e siècle

Décris comment est le Barbare physiquement sur cette mosaïque :

.....

.....

.....

.....

.....

.....

Des barbares travaillent pour des propriétaires romains

C'est donc pour moi que labourent à cette heure les Barbares. Ces pillards peinent à travailler sans arrêt mes terres, peuplent mon marché du bétail qu'il vient vendre. Toutes les terres qui demeuraient abandonnées reverdissent grâce au travail d'un barbare.

Quel travail fait le Barbare pour les Romains dans ce texte ? :

.....

.....

Dessine le Barbare tel qu'il t'apparaît.

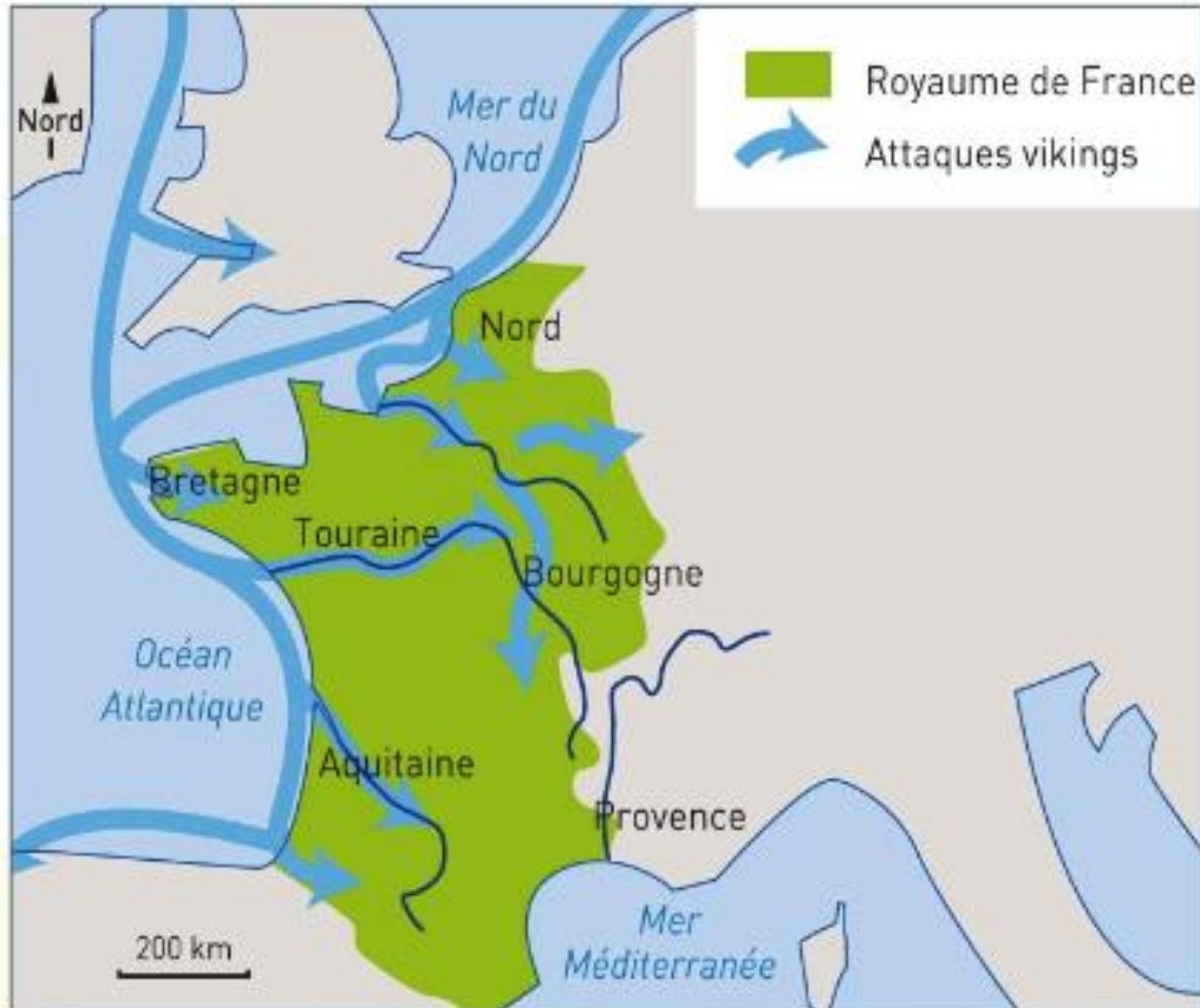
Doc 1 - L'arrivée des Huns

Un nouveau peuple est soudain apparu : des hommes inconnus, étranges, qui tantôt s'abattent comme l'ouragan depuis le sommet des montagnes, tantôt semblent sortir de dessous la terre, des hommes qui anéantissent tout sur leur passage : les Huns. Les Barbares cherchent à fuir hors de leur portée. Nos barrières s'ouvrent devant eux. Le pays barbare vomit ses enfants sur notre territoire, comme un volcan vomirait sa lave.

D'après Ammien Marcellin, historien, vers 376

1. Comment l'auteur décrit-il les Huns ?
2. Quelle est la conséquence de leur arrivée ?
3. Quelles expressions l'auteur emploie-t-il pour montrer l'importance de ce mouvement de population ?
4. Sur la carte de la trace écrite, trouve d'où les Huns venaient ?

Doc 2 - Carte des attaques normandes







Doc 3 - Drakkar viking du IX^{ème} siècle



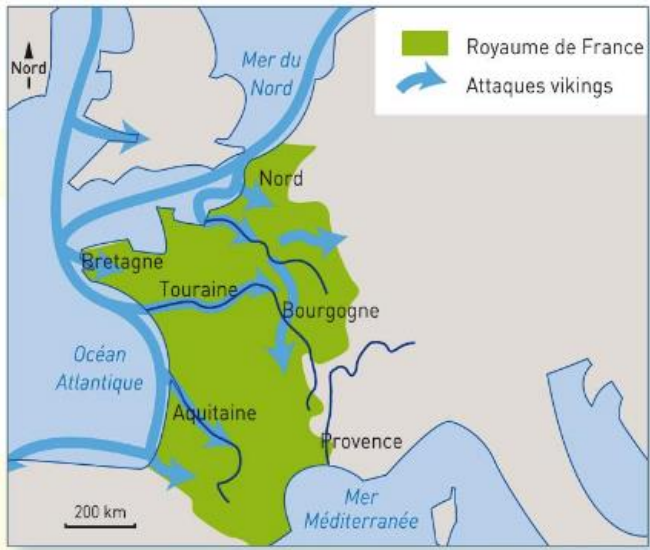
Doc 1 - L'arrivée des Huns

Un nouveau peuple est soudain apparu : des hommes inconnus, étranges, qui tantôt s'abattent comme l'ouragan depuis le sommet des montagnes, tantôt semblent sortir de dessous la terre, des hommes qui anéantissent tout sur leur passage : les Huns. Les Barbares cherchent à fuir hors de leur portée. Nos barrières s'ouvrent devant eux. Le pays barbare vomit ses enfants sur notre territoire, comme un volcan vomirait sa lave.

D'après Ammien Marcellin, historien, vers 376

1. Comment l'auteur décrit-il les Huns ?
2. Quelle est la conséquence de leur arrivée ?
3. Quelles expressions l'auteur emploie-t-il pour montrer l'importance de ce mouvement de population ?
4. Sur la carte de la trace écrite, trouve d'où les Huns venaient ?

Doc 2 - Carte des attaques normandes



1. Observe la carte. D'où les Vikings venaient-ils ? Quelles régions ont-ils attaquées ?
2. Comment sont-ils entrés dans le pays ?
3. Décris leur bateau.
4. Les Barbares sont entrés en Gaule à partir du IV^{ème} siècle. Les Vikings l'ont fait à partir du IX^{ème} siècle. Situe ces migrations sur la frise de la trace écrite. Combien de temps s'est écoulé entre les deux ?

Doc 3 - Drakkar viking du IX^{ème} siècle



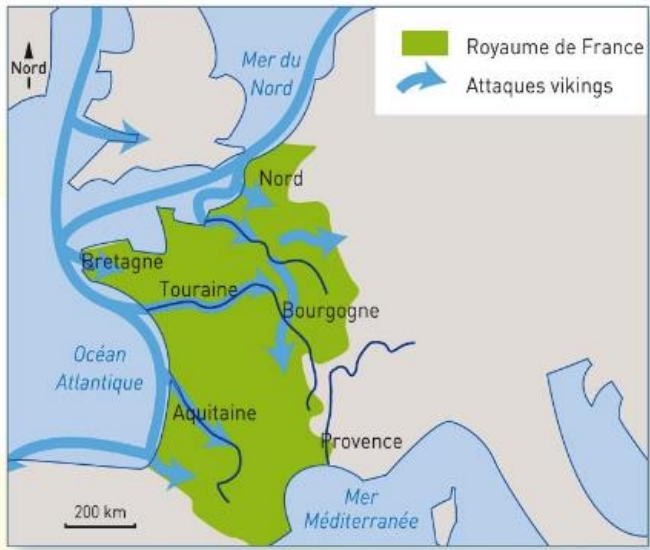
Doc 1 - L'arrivée des Huns

Un nouveau peuple est soudain apparu : des hommes inconnus, étranges, qui tantôt s'abattent comme l'ouragan depuis le sommet des montagnes, tantôt semblent sortir de dessous la terre, des hommes qui anéantissent tout sur leur passage : les Huns. Les Barbares cherchent à fuir hors de leur portée. Nos barrières s'ouvrent devant eux. Le pays barbare vomit ses enfants sur notre territoire, comme un volcan vomirait sa lave.

D'après Ammien Marcellin, historien, vers 376

1. Comment l'auteur décrit-il les Huns ?
2. Quelle est la conséquence de leur arrivée ?
3. Quelles expressions l'auteur emploie-t-il pour montrer l'importance de ce mouvement de population ?
4. Sur la carte de la trace écrite, trouve d'où les Huns venaient ?

Doc 2 - Carte des attaques normandes



1. Observe la carte. D'où les Vikings venaient-ils ? Quelles régions ont-ils attaquées ?
2. Comment sont-ils entrés dans le pays ?
3. Décris leur bateau.
4. Les Barbares sont entrés en Gaule à partir du IV^{ème} siècle. Les Vikings l'ont fait à partir du IX^{ème} siècle. Situe ces migrations sur la frise de la trace écrite. Combien de temps s'est écoulé entre les deux ?

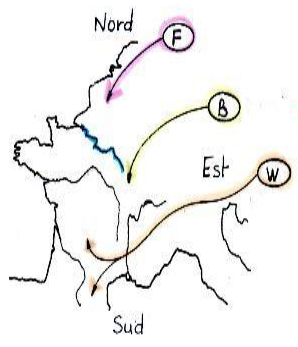
Doc 3 - Drakkar viking du IX^{ème} siècle



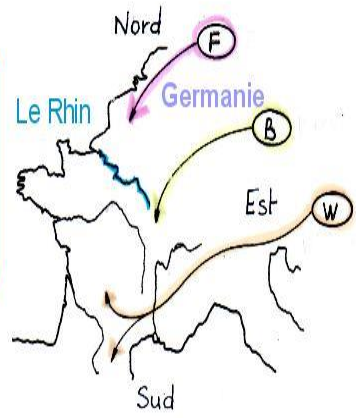
- Les plus terribles : **les Huns**
- leur chef : **Attila**
- viennent d'**Asie**
- terrorisent la population



Les Huns
Asie



Des tribus barbares viennent de **Germanie** traversent le **Rhin** et envahissent la Gaule



en 406
pendant l'Antiquité

Elles sont attirées par
- la richesse
- le climat de la Gaule



Les invasions barbares

Les **Francs** au Nord
Les **Burgondes** à l'Est
Les **Wisigoths** au Sud

Elles pillent
Elles incendient
Elles s'installent en Gaule

