

Connaître les nombres de 60 à 69


TRAVAIL MENTAL

Compter des pièces et des billets.
Les élèves écrivent la somme correspondante.




Manipulation
Guide p. 178

Nino souhaite construire cette tour. Il a besoin de 63 allumettes.
Dessine-les, puis complète.



63 =

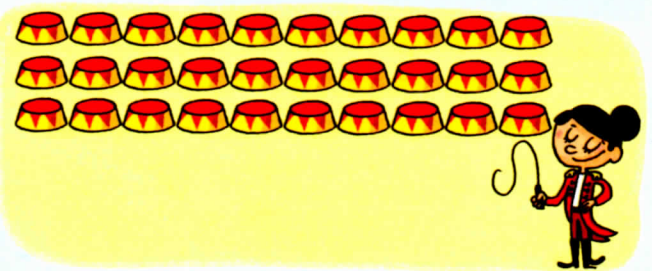
Complète la suite des nombres.



Complète le tableau comme dans l'exemple.

soixante-cinq	65	60 + 5	6 dizaines et 5 unités
soixante	60 + dizaines et unité
soixante-neuf + dizaines et unités
soixante-deux + dizaines et unités
soixante-six	66 + dizaines et unités

La dompteuse a préparé les plats pour un numéro avec 30 souris. 17 souris sont arrivées. Combien de souris manque-t-il ?



Il manque souris.