





Prénom :

Date :

1. Compte ces sommes d'argent.2. Dessine les sommes d'argent suivantes en utilisant le nombre de pièces indiqué.

35 centimes (avec 3 pièces)	3 euros 60 centimes (avec 4 pièces)	1 euro 85 centimes (avec 5 pièces)

3. Relie chaque objet à sa valeur.

			
•	•	•	•
•	•	•	•
1 euro	60 centimes	22 euros	9 euros





Prénom :

Date :

1. Compte ces sommes d'argent.2. Dessine les sommes d'argent suivantes en utilisant le nombre de pièces indiqué.

35 centimes (avec 3 pièces)	3 euros 60 centimes (avec 4 pièces)	1 euro 85 centimes (avec 5 pièces)

3. Relie chaque objet à sa valeur.

			
•	•	•	•
•	•	•	•
1 euro	60 centimes	22 euros	9 euros