

Prénom : \_\_\_\_\_ Date : \_\_\_\_\_

1. Complète les égalités.

$5-1= \dots$

$7-3= \dots$

$5-3= \dots$

$4-3= \dots$

$9-4= \dots$

$8-0= \dots$

$9-2= \dots$

$9-1= \dots$

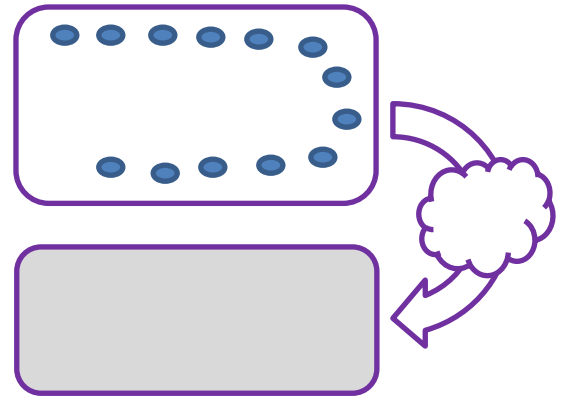
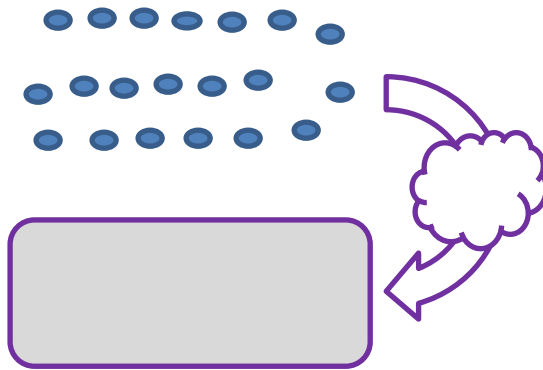
$6-3= \dots$

$10-2= \dots$

$4-1= \dots$

$7-2= \dots$

2. Écris le nombre et dessine comme Dédé.

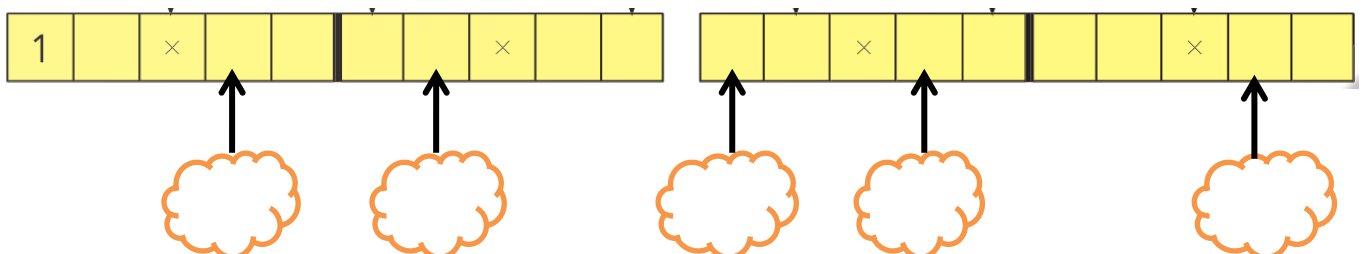


3. Écris en lettres.



$6 = \dots \quad 8 = \dots \quad 10 = \dots$

$7 = \dots \quad 9 = \dots$

4. Imagine les jetons et complète les nuages.



5. Réponds et dessine pour vérifier.



6. Complète les égalités.

$4 + 4 = \dots\dots$

$3 + 6 = \dots\dots$

$2 + 6 = \dots\dots$

$7 + 2 = \dots\dots$

$7 + 3 = \dots\dots$

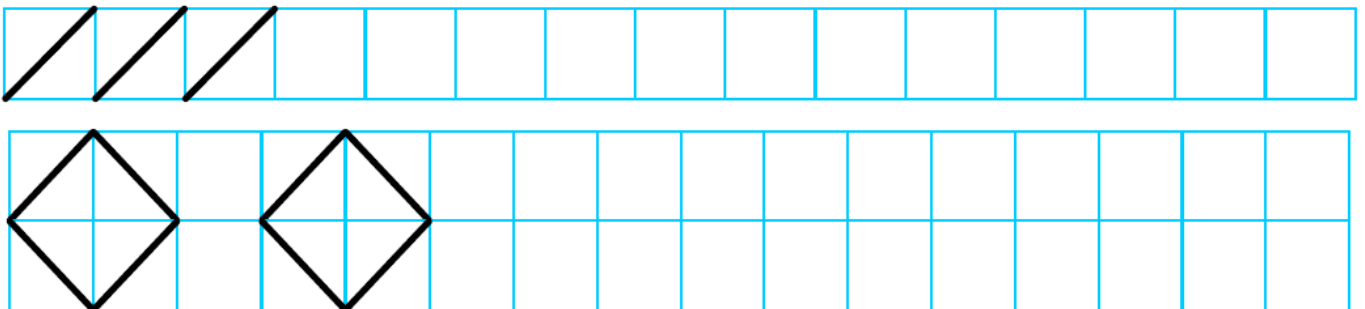
$6 + 3 = \dots\dots$

$1 + 5 = \dots\dots$

$9 + 1 = \dots\dots$

$4 + 5 = \dots\dots$

7. Continue les frises.



8. Colorie les doigts et écris une égalité.

<p>Colorie 13 doigts.</p> <p>Écris une égalité.</p>	<p>Colorie 16 doigts.</p> <p>Écris une égalité.</p>	<p>Colorie 19 doigts.</p> <p>Écris une égalité.</p>
---	---	---