

Prénom: _____

Date: _____

Le thermomètre (1)

Le thermomètre sert à mesurer des températures.


Il existe différents thermomètres:

le thermomètre médical ●



● pour mesurer la température de l'air

le thermomètre du bain ●



● pour mesurer la température du corps

le thermomètre mural ●



● pour mesurer la température du bain

Prénom: _____

Date: _____

Le thermomètre (1)


Le thermomètre sert à mesurer des températures.

Il existe différents thermomètres:

le thermomètre médical ●



le thermomètre du bain ●



le thermomètre mural ●



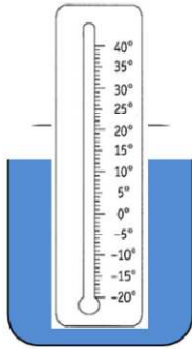
Prénom: _____

Date: _____


Le thermomètre (2)

Voici trois expériences qui nous montre comment le thermomètre fonctionne.


Ce que nous faisons




Ce que nous voyons




Ce que nous faisons




Ce que nous voyons



Ce que nous faisons



Ce que nous voyons



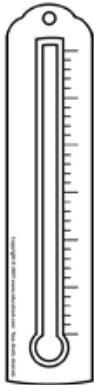
Prénom: _____

Date: _____

Le thermomètre (3)

Pour lire la température, on regarde le liquide coloré. Plus il est vers le haut, plus la température est élevée.

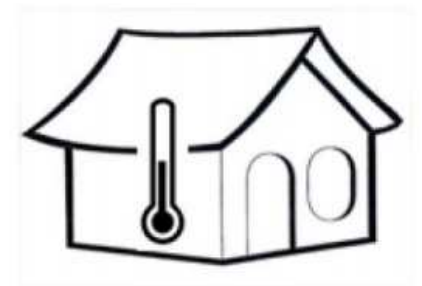
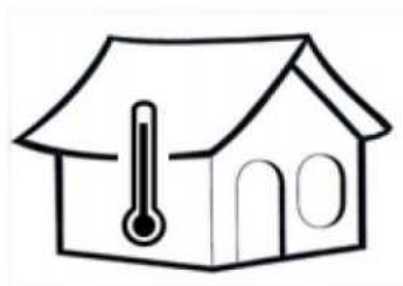
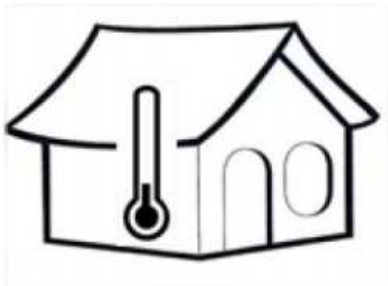
Il fait chaud:



Il fait froid:



Colorie en rouge la maison la plus chaude.



Colorie en bleu l'igloo le plus froid.



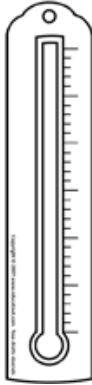
Prénom: _____

Date: _____

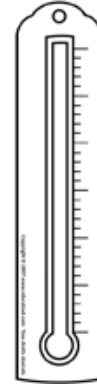
Le thermomètre (3)

Pour lire la température, on regarde la graduation du liquide coloré. Plus la température est élevée, plus le liquide monte dans le thermomètre.

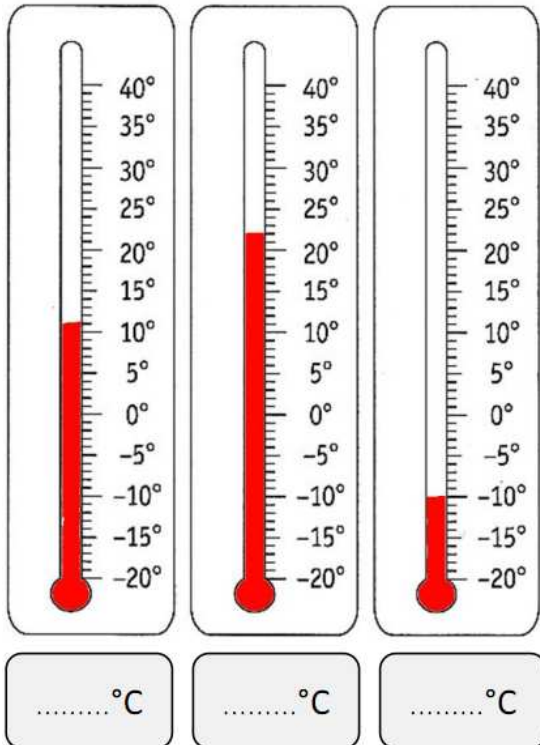
Il fait chaud:



Il fait froid:



Ecris la température indiquée par le thermomètre:



Colorie le liquide dans les thermomètres:

