






1. 
 $4 + 4 =$


2. 
 $3 + 6 =$


3. 
 $5 + 4 =$


4. 
 $5 + 2 =$

5. 
 $3 + 5 =$


6. 
 $8 + 1 =$

7. 
 $7 + 2 =$

8. 
 $6 + 1 =$

9. 
 $6 + 3 =$

10. 
 $4 + 3 =$

11. 
 $9 + 0 =$

12. 
 $4 + 5 =$



@pauldelancy-illustration