

EVALUATION DE GEOMETRIE du 1^{er} trimestre

1/ Relie les points à la règle dans l'ordre :

1.
3.
7.
. 6

. 2
4







.5







2/ Colorie les cases selon leurs coordonnées:

	A	B	C	D	E	F	G
1							
2							
3							
4							
5							
6							
7							

rouge	G	3
vert	B	7
bleu	D	2
marron	C	6
jaune	A	5
violet	E	1

3/ Ecris les coordonnées des dessins :

	A	B	C	D	E	F	G
1							
2							
3							
4							
5							
6							
7							

3/ Code les déplacements de la souris :

